



Họ và tên :

Sẵn sàng chinh phục ước mơ
Thứ ngày.... tháng... năm

Lớp: 3

KIỂM TRA CUỐI HỌC KÌ I

(Thời gian: 35 phút)

Điểm	Nhận xét của Thầy Cô	Giáo viên chấm (Kí và ghi rõ họ tên)
	
	

I/ Trắc nghiệm (4 điểm)

Khoanh tròn vào chữ cái trước ý trả lời đúng

Câu 1 : $\frac{1}{4}$ của 16 là :... Số cần điền là:

- A. 3 B. 4 C. 5 D. 6

Câu 2 : 6m 4cm =cm. Số thích hợp điền vào chỗ trống là:


- A. 10 B. 24 C. 604 D. 640

Câu 3 : Có 4 con trâu và 20 con bò. Số trâu bằng một phần mấy số bò ?

- A. $\frac{1}{4}$ B. $\frac{1}{20}$ C. $\frac{1}{16}$ D. $\frac{1}{5}$

Câu 4 : Hình bên có mấy góc vuông?

- A. 3 B. 4
C. 5 D. 6



Câu 5 : Chu vi hình vuông có cạnh 5cm là :

- A. 20 B. 25 C. 20cm D. 25cm

Câu 6 : 1000g = ... kg. Số cần điền là :

- A. 10kg B. 100kg C. 1000kg D. 1kg

Câu 7: Năm 2010 có 365 ngày, 1 tuần lễ có 7 ngày. Vậy năm 2010 có::

- A. 52 tuần lễ B. 5 tuần lễ và 15 ngày
C. 52 tuần lễ và 1 ngày D. 52 tuần lễ và 15 ngày

Câu 8: Giá trị của biểu thức $65 - 12 \times 3$ là:

- A. 29 B. 159 C. 39 D. 19

II. Tự luận (6 điểm)

Câu 1: Đặt tính rồi tính:

$276 + 319$

$756 - 392$

208×3

$536 : 8$

Câu 2: Tính giá trị của biểu thức.:

$42 + 24 : 8$

$71 - 13 \times 4$

Câu 3: Một gói kẹo to cân nặng 250g. Hai gói kẹo nhỏ, mỗi gói cân nặng 150g. Hỏi cả ba gói kẹo đó cân nặng bao nhiêu gam?

Bài giải

Câu 4 : Hai số có tổng bằng 327, nếu giảm số thứ nhất đi 26 đơn vị và tăng số thứ hai 48 đơn vị thì tổng mới bằng bao nhiêu ?

Bài giải

CHÚC CON HOÀN THÀNH TỐT BÀI LÀM CỦA MÌNH

GỢI Ý/HƯỚNG DẪN GIẢI**I/ Trắc nghiệm (4 điểm)****Khoanh tròn vào chữ cái trước ý trả lời đúng**

Câu số	1	2	3	4	5	6	7	8
Đáp án	B	C	D	C	C	D	C	A

II. Tự luận**Câu 1:** (2 điểm) Đặt tính rồi tính:

$276 + 319 = 595$

$756 - 392 = 364$

$208 \times 3 = 624$

$536 : 8 = 67$

Câu 2: (1 điểm) Tính giá trị của biểu thức.

$$42 + 24 : 8 = 42 + 3$$

$$= 45$$

$$71 - 13 \times 4 = 71 - 52$$

$$= 19$$

Câu 3: (2 điểm)Bài giải:

Hai gói kẹo nhỏ cân nặng số ki-lô-gam là :

$150 \times 2 = 300 \text{ (g)}$

Cả ba gói kẹo cân nặng số ki-lô-gam là :

$250 + 300 = 550 \text{ (g)}$

Đáp số : 550g

Câu 4 : (1 điểm)Bài giải:

Khi giảm số hạng đi 26 đơn vị thì tổng cũng giảm 26 đơn vị. Khi tăng số hạng lên 48 đơn vị thì tổng cũng tăng 48 đơn vị.

Vậy nếu giảm số thứ nhất đi 26 đơn vị và tăng số thứ hai 48 đơn vị thì tổng mới là :

$327 - 26 + 48 = 349$

Đáp số : 349



Họ và tên :

Sẵn sàng chinh phục ước mơ
Thứ ngày.... tháng... năm

Lớp: 3

KIỂM TRA CUỐI HỌC KÌ I

(Thời gian: 35 phút)

Điểm	Nhận xét của Thầy Cô	Giáo viên chấm (Kí và ghi rõ họ tên)
	
	

I) Trắc nghiệm

Khoanh vào chữ cái đặt trước câu trả lời đúng:

Câu 1: Đồng hồ bên chỉ :

- A. 10 giờ 10 phút
- B. 2 giờ 10 phút
- C. 10 giờ 2 phút
- D. 2 giờ kém 10



Câu 2 : Giá trị của biểu thức $45 + 27 : 3$ là:

- A. 24
- B. 36
- C. 54
- D. 44

Câu 3: $3\text{m } 8\text{cm} = \dots \text{cm}$. Số thích hợp điền vào chỗ chấm là:

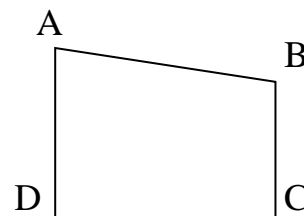
- A. 38
- B. 308
- C. 380
- D. 83

Câu 4 : Con 5 tuổi. Bố 35 tuổi. Hỏi tuổi bố gấp mấy lần tuổi con ?

- A. 7 lần
- B. 8 lần
- C. 9 lần
- D. 30 lần

Câu 5 : Hình vẽ MNPQ (Hình dưới) có số góc vuông là:

- A. 2
- B. 3
- C. 4
- D. 5



Câu 6: Chữ số 6 trong số 461 có giá trị là:

- A. 600
- B. 60
- C. 61
- D. 46

Câu 7: Trong các số 24, 51, 62, 48 số chia cho 5 có số dư lớn nhất là số nào?

- A. 24
- B. 51
- C. 62
- D. 48

Câu 8: Giá trị của x trong phép tính : $926 - x = 175$

- A. 951
- B. 751
- C. 851
- D. 651

II) Tự luận

Câu 1: Đặt tính rồi tính:

a) $162 + 370$

b) $728 - 245$

c) 106×8

d) $480 : 6$

.....
.....
.....
.....

Câu 2: Tìm x :

$x \times 7 = 42$

$472 - x = 50 : 5$

$x : 8 = 119 - 7$

.....
.....
.....
.....

Câu 3: Một cửa hàng có 104kg gạo, cửa hàng đã bán đi $\frac{1}{4}$ kg gạo đó. Hỏi cửa hàng còn lại bao nhiêu kilogam gạo?

Bài giải

.....
.....
.....
.....
.....

Câu 4: Tính hiệu, biết số bị trừ là số lớn nhất có 3 chữ số, số trừ là số liền sau của số nhỏ nhất có 3 chữ số.

Bài giải

.....
.....
.....
.....
.....

GỢI Ý/HƯỚNG DẪN GIẢI**I) Trắc nghiệm (4 điểm)**

Câu số	1	2	3	4	5	6	7	8
Đáp án	A	C	B	A	A	B	A	B

II) Tự luận**Câu 1:** (2 điểm) Đặt tính rồi tính:

a) $162 + 370 = 532$ b) $728 - 245 = 483$ c) $106 \times 8 = 848$ d) $480 : 6 = 80$

Câu 2: (1,5 điểm) **Tìm x:**

$$x \times 7 = 42$$

$$x = 42 : 7$$

$$x = 6$$

$$472 - x = 50 : 5$$

$$472 - x = 10$$

$$x = 472 - 10$$

$$x = 462$$

$$x : 8 = 119 - 7$$

$$x = 112 : 8$$

$$x = 14$$

Câu 3: (1,5 điểm)*Bài giải*

Cửa hàng đã bán đi số ki-lô-gam gạo là:

$$104 : 4 = 26 \text{ (kg)}$$

Cửa hàng còn lại số ki-lô-gam gạo là:

$$104 - 26 = 78 \text{ (kg)}$$

Đáp số: 78 kg gạo

Câu 4: (2 điểm) Số bị trừ: 999. Số trừ: 101. Hiệu: $999 - 101 = 898$



Họ và tên :

Sẵn sàng chinh phục ước mơ
Thứ ngày.... tháng... năm

Lớp: 3

KIỂM TRA CUỐI HỌC KÌ I

(Thời gian: 35 phút)

Điểm	Nhận xét của Thầy Cô	Giáo viên chấm (Kí và ghi rõ họ tên)
	
	

I. TRẮC NGHIỆM (4 điểm)

Khoanh vào chữ cái đặt trước câu trả lời đúng

a) 4m 3cm.....430cm. Dấu (> ; <; =) thích hợp điền vào chỗ chấm là:

A. < B. > C. =

b) Phép tính nhân nào dưới đây có kết quả là **24**?

A. 6×9 B. 7×5 C. 6×4 D. 7×6

c) $\frac{1}{4}$ giờ =phút. Số cần điền vào chỗlà:

A. 60 B. 30 C. 20 D. 15

d) Cha 45 tuổi, con 9 tuổi thì tuổi con bằng một phần mấy tuổi cha?

A. $\frac{1}{5}$ B. $\frac{1}{6}$ C. $\frac{1}{9}$ D. $\frac{1}{45}$

e) Các số viết tiếp vào chỗ chấm trong dãy: 16, 22, 28,, là:

A. 34, 40 B. 35, 41 C. 35, 40 D. 36, 42

g) Một số chia cho 8 được thương là 6 và số dư là 4. Số đó là.

A. 51 B. 52 C. 53 D. 54

2 : Nối biểu thức ứng với giá trị đã cho? :

$(100 + 11) \times 6$

$100 + 11 \times 6$

$201 + 39 : 3$

$375 - 10 \times 3$

214

666

452

345

166

II/ Phần tự luận

Bài 1 : Đặt tính rồi tính (2 điểm)

$276 + 319$

$756 - 392$

208×3

$536 : 8$

Bài 2: Tính giá trị của biểu thức : (1 điểm)

$$\begin{aligned} \text{a) } 169 - 24 : 2 &= \dots\dots\dots \\ &= \dots\dots\dots \end{aligned}$$

$$\begin{aligned} \text{b) } 123 \times (83 - 80) &= \dots\dots\dots \\ &= \dots\dots\dots \end{aligned}$$

Bài 3: Hải có 24 viên bi, Minh có số bi bằng $\frac{1}{4}$ số bi của Hải. Hỏi Hải có nhiều hơn Minh bao nhiêu viên bi? (2 điểm)

Bài giải

Bài 4: Có 52 m vải, may mỗi bộ quần áo hết 3 m. Hỏi có thể may được nhiều nhất mấy bộ và thừa bao nhiêu mét vải? (1 điểm)

Bài giải

CHÚC CON HOÀN THÀNH TỐT BÀI LÀM CỦA MÌNH

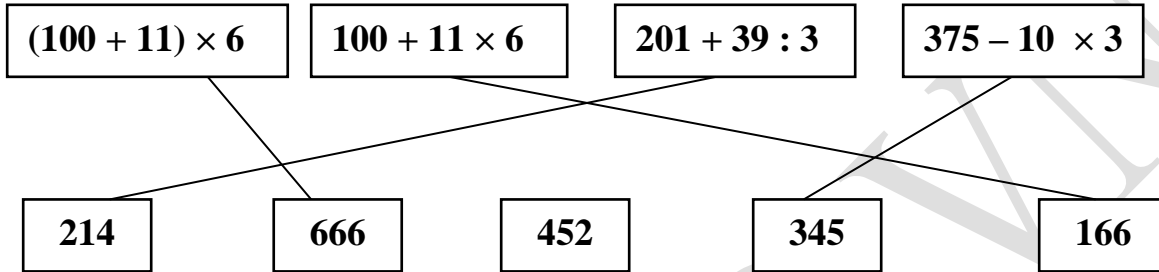
GỢI Ý/HƯỚNG DẪN GIẢI

I- Phần trắc nghiệm:(4 điểm).

1. Khoanh vào chữ cái đặt trước câu trả lời đúng

Câu	a	B	c	D	E	G
Đáp án	A	C	D	A	A	B

2 : Nối biểu thức ứng với giá trị đã cho? (1 điểm)



II/ Phần tự luận:(6 điểm)

Bài 1:(2 điểm) Đặt tính theo cột dọc. Kết quả đúng :

$$276 + 319 = 595 \qquad 756 - 392 = 364 \qquad 208 \times 3 = 624 \qquad 536 : 8 = 67$$

Bài 2:(1 điểm) Tính giá trị của biểu thức :

$$169 - 24 : 2 = 169 - 12 \quad ; \qquad 123 \times (83 - 80) = 123 \times 3$$

$$= 157 \qquad \qquad \qquad = 369$$

Bài 3:(2 điểm)

Bài giải

Minh có số viên bi là :

$$24 : 4 = 6 \text{ (viên bi)}$$

Hải có nhiều hơn Minh số viên bi là :

$$24 - 6 = 18 \text{ (viên)}$$

Đáp số : 18 viên bi

Bài 4: (1điểm)

$$\text{Ta có: } 52 : 3 = 17 \text{ (dư 1)}$$

Như vậy 52 m vải có thể may được nhiều nhất 17 bộ và còn thừa 1 m vải.

Đáp số: 17 bộ , thừa 1m vải



Họ và tên :

Sẵn sàng chinh phục ước mơ
Thứ ngày.... tháng... năm

Lớp: 3

KIỂM TRA CUỐI HỌC KÌ I

(Thời gian: 35 phút)

Điểm	Nhận xét của Thầy Cô	Giáo viên chấm (Kí và ghi rõ họ tên)
	
	

I. Phần trắc nghiệm:

1: Khoanh vào chữ cái đặt trước câu trả lời đúng

a) Số liền trước của số lớn nhất có 3 chữ số là:

A. 100

B. 999

C. 998

D. 1000

b) $7m\ 3cm = \dots\dots cm$:

A. 730

B. 703

C. 73

D. 10

c) Có 750 quyển sách xếp đều vào 5 tủ, mỗi tủ có 2 ngăn. Hỏi mỗi ngăn có bao nhiêu quyển sách, biết rằng mỗi ngăn có số sách như nhau?

A. 75 quyển

B. 30 quyển

C. 60 quyển

D. 125 quyển

d) Gấp 7l lên 8 lần thì được:

A. 15l

B. 49l

C. 65l

D. 56l

2: Đ ghi S, sai ghi S

Giá trị của biểu thức

a) $2 + 8 \times 5 = 50$

c) $3 + 14 \times 2 = 34$

b) $32 : 4 + 4 = 12$

d) $45\text{ cm} + 25\text{ cm} = 7\text{ dm}$

II/ Phần tự luận:

Bài 1: Đặt tính rồi tính

$487 + 302$

$660 - 251$

124×3

$845 : 7$

.....
.....
.....
.....

Bài 2: Tìm x :

a) $x : 6 = 14$ (dư 2)

b) $5 \times x = 375$

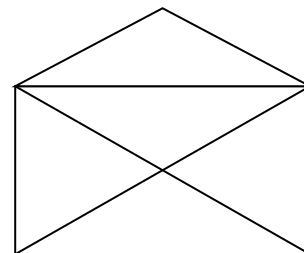
.....
.....
.....
.....

Bài 3 : Một quyển truyện dày 128 trang. An đã đọc được $\frac{1}{4}$ số trang đó. Hỏi còn bao nhiêu trang truyện nữa mà An chưa đọc?

Bài giải

.....
.....
.....
.....

Câu 4: Hình bên có bao nhiêu tam giác, bao nhiêu tứ giác?



- Có tam giác.
- Có tứ giác.

CHÚC CON HOÀN THÀNH TỐT BÀI LÀM CỦA MÌNH

GỢI Ý/HƯỚNG DẪN GIẢI**I- Phần trắc nghiệm:****1. Khoanh vào chữ cái đặt trước câu trả lời đúng**

Câu	a	b	C	D
Đáp án	C	B	A	D

2: (2điểm) Đ ghi S, sai ghi S**Giá trị của biểu thức**

$2 + 8 \times 5 = 50$

 S

$3 + 14 \times 2 = 34$

 S

$32 : 4 + 4 = 12$

 Đ

$45 \text{ cm} + 25 \text{ cm} = 7 \text{ dm}$

 Đ**II/ Phần tự luận:****Bài 1:(2 điểm) Đặt tính theo cột dọc. Đáp án đúng là:**

$487 + 302 = 789$

$660 - 251 = 409$

$124 \times 3 = 372$

$845 : 7 = 120 \text{ (dư 5)}$

Bài 2: (1 điểm) Tìm x:

$x : 6 = 14 \text{ (dư 2)}$

$5 \times x = 375$

$x = 14 \times 6 + 2$

$x = 375 : 5$

$x = 86$

$x = 75$

Bài 3:(1,5 điểm) :**Bài giải**

An đã đọc số trang truyện là :

$128 : 4 = 32 \text{ (trang)}$

Số trang truyện mà An chưa đọc là :

$128 - 32 = 96 \text{ (trang)}$

Đáp số: 96 trang truyện

Câu 4:(1 điểm)

- Có 9 tam giác.

- Có 4 tứ giác.



Họ và tên :

Sẵn sàng chinh phục ước mơ
Thứ ngày.... tháng... năm

Lớp: 3

KIỂM TRA CUỐI HỌC KÌ I

(Thời gian: 35 phút)

Điểm	Nhận xét của Thầy Cô	Giáo viên chấm (Kí và ghi rõ họ tên)
	
	

PHẦN I : Trắc nghiệm

1 : Khoanh tròn vào chữ cái trước câu trả lời đúng

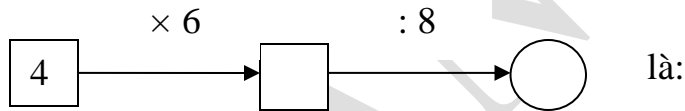
a. Lấy tổng của 16 và 14 nhân với 4 ta được kết quả là:

- A. 30 B. 34 C. 72 D. 120

b. Số dư lớn nhất trong phép chia cho 6 là:

- A. 4 B. 5 C. 6 D. 0

c. Số thích hợp viết vào chỗ trống trong phép tính:



- A. 24 và 3 B. 24 và 4 C. 24 và 6 D. 24 và 8

d. $\frac{1}{3}$ của 24 kg là:

- A. 1kg B. 3kg C. 6kg D. 8kg

2 : Nối các biểu thức có giá trị bằng nhau dưới đây :

a) $25 \times 6 + 18$
b) $(32 + 48) : 4$
c) $16 + 52 - 18$
d) $24 \times 4 \times 5$

1) $32 : 4 + 48 : 4$
2) $102 : 2 + 117$
3) $(20 + 5) \times 2$
4) $12 \times 5 \times 8$

PHẦN II : Tự luận

Bài 1. Đặt tính rồi tính.

$576 + 185$

$720 - 342$

75×7

$786 : 6$

.....
.....
.....
.....

Bài 2. Tìm x:

a) $x \times 3 = 219 \times 2$

b) $100 : x = 4$

.....
.....
.....
.....
.....

Bài 3: Bác Lan nuôi được 21 con gà trống và 24 con gà mái. Bác đã bán đi $\frac{1}{3}$ số gà đó . Hỏi Bác Lan đã bán đi bao nhiêu con gà?

Bài giải

.....

.....

.....

.....

.....

.....

.....

Bài 4: Tìm số bị chia trong phép chia cho 8, biết thương là 4 và số dư là số dư lớn nhất có thể có được.

Bài giải

.....
.....
.....

BUTVANG.VN

CHÚC CON HOÀN THÀNH TỐT BÀI LÀM CỦA MÌNH

GỢI Ý/HƯỚNG DẪN GIẢI

PHẦN I : Trắc nghiệm

1. Khoanh tròn vào chữ cái trước câu trả lời đúng

Câu	A	B	c	D
Đáp án	D	B	A	D

2 : Nối các biểu thức có giá trị bằng nhau dưới đây

a) $25 \times 6 + 18$	1) $32 : 4 + 48 : 4$
b) $(32 + 48) : 4$	2) $102 : 2 + 117$
c) $16 + 52 - 18$	3) $(20 + 5) \times 2$
d) $24 \times 4 \times 5$	4) $12 \times 5 \times 8$

PHẦN II : Tự luận

Bài 1. (2 điểm) Đặt tính theo cột dọc. Đáp án đúng là:

$$576 + 185 = 761$$

$$720 - 342 = 378$$

$$75 \times 7 = 525$$

$$786 : 6 = 131$$

Bài 2. (1 điểm) Tìm x :

$$x \times 3 = 219 \times 2$$

$$100 : x = 4$$

$$x \times 3 = 438$$

$$x = 100 : 4$$

$$x = 438 : 3$$

$$x = 25$$

$$x = 146$$

Bài 3: (2 điểm)

Bài giải

Bác Lan nuôi số con gà là:

$$21 + 24 = 45 \text{ (con)}$$

Bác Lan đã bán đi số con gà là:

$$45 : 3 = 15 \text{ (con)}$$

Đáp số: 15 con gà

Bài 4:(1 điểm). Tìm số bị chia trong phép chia cho 8, biết thương là 4 và số dư là số dư lớn nhất có thể có được.

Trong phép chia cho 8, số dư lớn nhất có thể có được là 7

Vậy số bị chia là: $8 \times 4 + 7 = 39$