



Họ và tên :

BÀI TẬP THEO TUẦN

Lớp: 1

TUẦN 26

Bài 1. Tính:

$$\begin{array}{r} 14 \\ + 3 \\ \hline \end{array}$$

.....

$$\begin{array}{r} 16 \\ + 3 \\ \hline \end{array}$$

.....

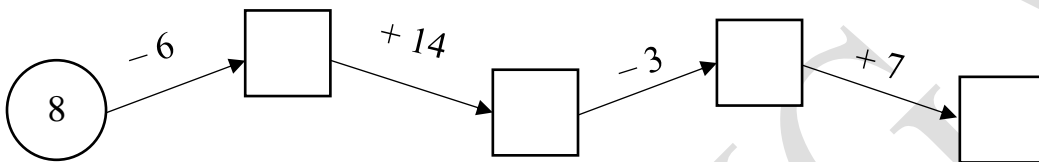
$$\begin{array}{r} 15 \\ + 2 \\ \hline \end{array}$$

.....

$$\begin{array}{r} 14 \\ + 2 \\ \hline \end{array}$$

.....

Bài 2. Điền số thích hợp vào ô trống:



Bài 3: Điền dấu (> , = , <) thích hợp vào chỗ chấm:

18 15 + 2

14 + 4 16

11 + 1 15

10 13 + 2

15 11 + 4

15 + 1 19

17 + 1 20

17 10 + 7

Bài 4: Đúng ghi Đ, sai ghi S vào ô trống:

15 + 1 = 16	<input type="checkbox"/>	11 + 8 = 19	<input type="checkbox"/>	11 + 8 = 20	<input type="checkbox"/>
12 + 7 = 18	<input type="checkbox"/>	14 + 3 = 17	<input type="checkbox"/>	11 + 3 = 14	<input type="checkbox"/>
13 + 5 = 18	<input type="checkbox"/>	16 + 3 = 18	<input type="checkbox"/>	12 + 3 = 11	<input type="checkbox"/>

Bài 4: Nối hai phép tính có kết quả bằng nhau:

$14 + 2$

$13 + 6$

$12 + 6$

$15 + 0$

$15 + 4$

$11 + 5$

$11 + 4$

$14 + 4$

Bài 5: Viết phép tính thích hợp:

a) Có: 12 con gà

b) Hải gấp: 10 máy bay

Thêm: 6 con gà

Nam gấp: 5 máy bay

Có tất cả: con gà

Cả hai bạn gấp: máy bay

--	--	--	--	--

--	--	--	--	--

CHÚC CON HOÀN THÀNH TỐT BÀI LÀM CỦA MÌNH

GỢI Ý/HƯỚNG DẪN GIẢI

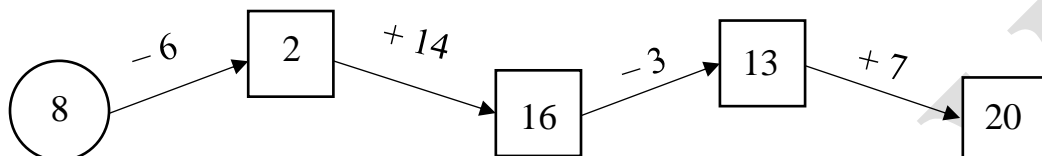
Bài 1. Tính:

$$\begin{array}{r} 14 \\ + 3 \\ \hline 17 \end{array}$$

$$\begin{array}{r} 16 \\ + 3 \\ \hline 19 \end{array}$$

$$\begin{array}{r} 15 \\ + 2 \\ \hline 17 \end{array}$$

$$\begin{array}{r} 14 \\ + 2 \\ \hline 16 \end{array}$$

Bài 2. Điền số thích hợp vào ô trống:**Bài 3:** Điền dấu ($>$, $=$, $<$) thích hợp vào chỗ chấm:

$18 > 15 + 2$

$14 + 4 > 16$

$11 + 1 < 15$

$10 < 13 + 2$

$15 = 11 + 4$

$15 + 1 < 19$

$17 + 1 < 20$

$17 = 10 + 7$

Bài 4: Đúng ghi Đ, sai ghi S vào ô trống:

$15 + 1 = 16 \quad \text{Đ}$

$11 + 8 = 19 \quad \text{Đ}$

$11 + 8 = 20 \quad \text{S}$

$12 + 7 = 18 \quad \text{S}$

$14 + 3 = 17 \quad \text{Đ}$

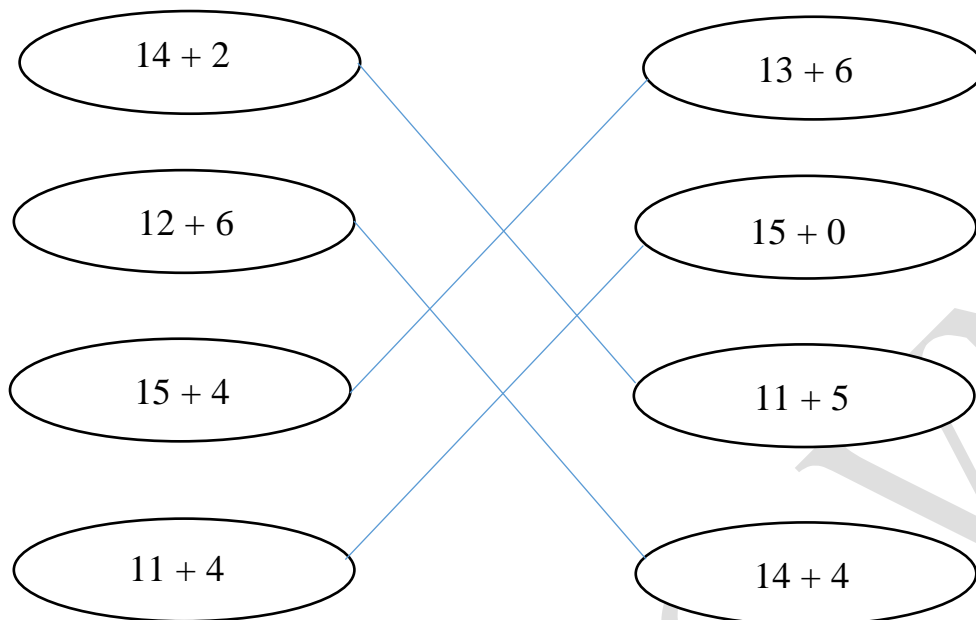
$11 + 3 = 14 \quad \text{Đ}$

$13 + 5 = 18 \quad \text{Đ}$

$16 + 3 = 18 \quad \text{S}$

$12 + 3 = 11 \quad \text{S}$

Bài 4: Nối hai phép tính có kết quả bằng nhau:



Bài 5: Viết phép tính thích hợp:

a) Có: 12 con gà

b) Hải gấp: 10 máy bay

Thêm: 6 con gà

Nam gấp: 5 máy bay

Có tất cả: con gà

Cả hai bạn gấp: máy bay

12	+	6	=	18
----	---	---	---	----

10	+	5	=	15
----	---	---	---	----