



Họ và tên :

BÀI TẬP THEO TUẦN

Lớp: 1

TUẦN 31

I. Trắc nghiệm

Khoanh vào chữ cái trước câu trả lời đúng:

1. Kết quả của phép cộng: $5 + 42$ là:

- A. 92 B. 29 C. 47 D. 46

2. Lấy 42 cộng với 23 rồi cộng với 4 được kết quả là:

- A. 65 B. 69 C. 68 D. 96

3. Cho: $\dots + 36 = 58$. Số thích hợp điền vào chỗ chấm là:

- A. 20 B. 21 C. 22 D. 23

4. Cho: $24 + 32 \dots 25 + 30$. Dấu ($>$; $<$; $=$) thích hợp điền vào chỗ chấm là:

- A. $>$ B. $<$ C. $=$

5. Số tròn chục nhỏ nhất cộng với 48 được kết quả là:

- A. 10 B. 48 C. 85 D. 58

II. Tự luận

Bài 1. Đặt tính rồi tính:

$$33 - 22$$

$$2 + 45$$

$$63 - 21$$

$$4 + 32$$

.....

.....

.....

.....

.....

.....

.....

.....

.....

.....

.....

.....

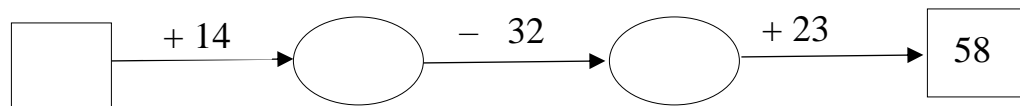
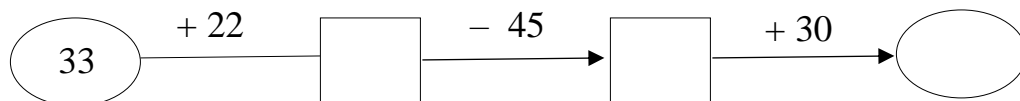
Bài 2. Viết chữ số thích hợp vào ô trống :

$$\begin{array}{r} 34 \\ + 1\boxed{} \\ \hline 46 \end{array}$$

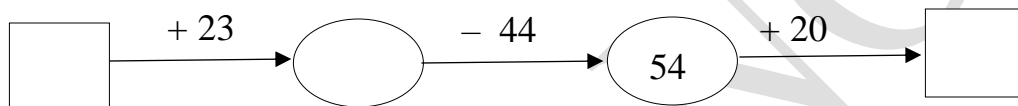
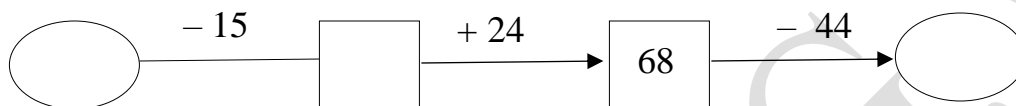
$$\begin{array}{r} 53 \\ + \boxed{}\boxed{} \\ \hline 75 \end{array}$$

$$\begin{array}{r} 4\boxed{} \\ + \boxed{}3 \\ \hline 76 \end{array}$$

Bài 3. Điền số thích hợp vào ô trống:



Bài 4. Điền số thích hợp vào ô trống:



Bài 5. Viết tiếp vào chỗ chấm cho thích hợp :

a) Nếu chủ nhật tuần này là ngày 20 thì chủ nhật tuần sau là ngày, chủ nhật tuần trước là ngày

b) Nếu ngày 12 tháng 11 là thứ bảy thì ngày 20 tháng 11 là

c) Nếu thứ hai tuần này là ngày 10 tháng 10 thì thứ ba tuần sau là ngày ...

GỢI Ý/HƯỚNG DẪN GIẢI

I. Trắc nghiệm

Khoanh vào chữ cái trước câu trả lời đúng:

1. Kết quả của phép cộng: $5 + 42$ là:

- A. 92 B. 29 C. **47** D. 46

2. Lấy 42 cộng với 23 rồi cộng với 4 được kết quả là:

- A. 65 B. **69** C. 68 D. 96

3. Cho: $\dots + 36 = 58$. Số thích hợp điền vào chỗ chấm là:

- A. 20 B. 21 C. **22** D. 23

4. Cho: $24 + 32 \dots 25 + 30$. Dấu ($>$; $<$; $=$) thích hợp điền vào chỗ chấm là:

- A. $>$ B. $<$ C. $=$

5. Số tròn chục nhỏ nhất cộng với 48 được kết quả là:

- A. 10 B. 48 C. 85 D. **58**

II. Tự luận

Bài 1. Đặt tính rồi tính

$33 - 22 = 11$

$2 + 45 = 47$

$63 - 21 = 42$

$4 + 32 = 36$

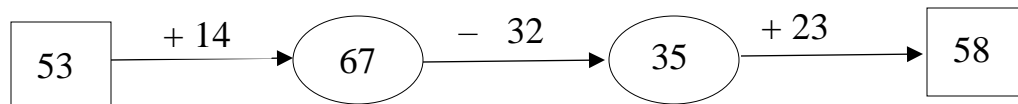
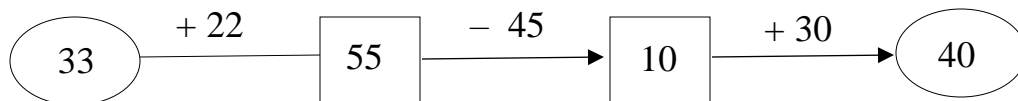
Bài 2. Viết chữ số thích hợp vào ô trống :

$$\begin{array}{r} 34 \\ + 1\boxed{2} \\ \hline 46 \end{array}$$

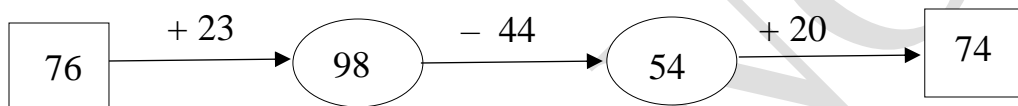
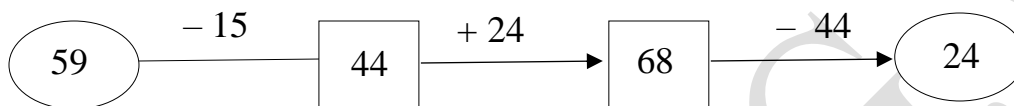
$$\begin{array}{r} 53 \\ + \boxed{2}\boxed{2} \\ \hline 75 \end{array}$$

$$\begin{array}{r} 4\boxed{3} \\ + \boxed{3}3 \\ \hline 76 \end{array}$$

Bài 3. Điền số thích hợp vào ô trống:



Bài 4. Điền số thích hợp vào ô trống:



Bài 5. Viết tiếp vào chỗ chấm cho thích hợp :

a) Nếu chủ nhật tuần này là ngày 20 thì chủ nhật tuần sau là ngày 27, chủ nhật tuần trước là ngày 13

b) Nếu ngày 12 tháng 11 là thứ bảy thì ngày 20 tháng 11 là chủ nhật

c) Nếu thứ hai tuần này là ngày 10 tháng 10 thì thứ ba tuần sau là ngày 18 tháng 10.