



Họ và tên :

BÀI TẬP THEO TUẦN

Lớp: 5

TUẦN 32**PHẦN I: Khoanh tròn vào chữ đặt trước câu trả lời đúng:****Câu 1:** Cho: $7,42 \times 10 \dots 7,42 \times 100$. Dấu ($<$, $>$, $=$) thích hợp điền vào chỗ chấm là:

- A. $>$ B. $<$ C. $=$

Câu 2: Tính giá trị của biểu thức $213,12 + 3,014 \times 50$.

- A. 1080,67 B. 363,82 C. 108,067 D. 10608,7

Câu 3: Một người đi xe đạp trong 3 giờ đi được 42km. Giờ thứ nhất người đó đã đi được 12,42m. Giờ thứ hai người đó đi hơn giờ thứ nhất 2km. Hỏi giờ thứ hai người đó đi được bao nhiêu ki-lô-mét?

- A. 14,42km B. 24,84km C. 15,16km D. 16,25km

Câu 4: Tổng của ba số bằng 10. Tổng của số thứ hai và số thứ ba là 7,2. Số thứ nhất là:

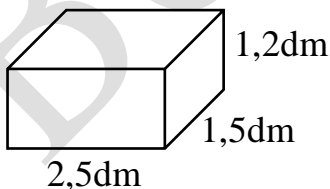
- A. 28 B. 2,8 C. 17,2 D. 1,72

Câu 5: Biết diện tích hình thang bằng $8m^2$, chiều cao bằng 4m. Tổng độ dài hai đáy của hình thang đó là:

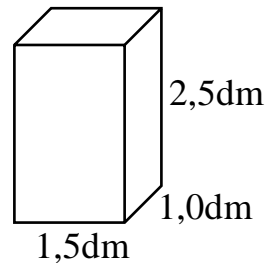
- A. 12m B. 2m C. 4m D. 16m

Câu 6: Diện tích xung quanh của hình hộp chữ nhật có chiều dài 3dm5cm, chiều rộng 1,5dm, chiều cao 13cm là:

- A. $23,5dm^2$ B. $23,5cm^2$ C. $12,6cm^2$ D. $13dm^2$

Câu 7: Chọn câu trả lời đúng:

Hình M



Hình N

- A. Diện tích toàn phần của hình hộp chữ nhật bằng nhau
 B. Diện tích xung quanh của hai hình hộp chữ nhật bằng nhau

C. Diện tích toàn phần của hình M lớn hơn diện tích toàn phần của hình N

D. Diện tích toàn phần của hình N lớn hơn diện tích toàn phần của hình M

Câu 8: Một khu đất hình chữ nhật có chiều dài là 300m, chiều rộng bằng $\frac{3}{5}$ chiều dài.

Diện tích khu đất đó là:

A. 540ha

B. 54ha

C. 54000ha

D. 54000m²

PHẦN II: Tự luận

Bài 1: Tính:

a) $\frac{2}{5} \times \frac{3}{4} + \frac{8}{15} : \frac{2}{3} \times 5$

b) $256,18 - 45,21 : 1,2 \times 0,8 + 1,2$

.....

.....

.....

.....

Bài 2: Một thửa ruộng hình chữ nhật có chu vi 480m, chiều rộng $\frac{3}{5}$ chiều dài.

a. Tính diện tích thửa ruộng đó.

b. Cứ 2ha thì thu được 114 tạ thóc. Hỏi cả thửa ruộng đó thu hoạch được bao nhiêu tấn thóc?

Bài giải

.....

.....

.....

.....

.....

.....

.....

.....

Bài 3: Một hình thang có chiều cao là 12cm, đáy lớn dài 25cm và diện tích bằng diện tích hình vuông có cạnh 15cm. Tính độ dài đáy bé hình thang đó.

Bài giải

.....

.....

.....

.....

.....

.....


.....

.....

.....

.....

.....



CHÚC CON HOÀN THÀNH TỐT BÀI LÀM CỦA MÌNH

GỢI Ý/HƯỚNG DẪN GIẢI

PHẦN I: TRẮC NGHIỆM

Câu	1	2	3	4	5	6	7	8
Đáp án	B	B	A	B	C	D	C	D

PHẦN II. TỰ LUẬN

Bài 1: Tính:

$$\begin{aligned}
 a) \quad & \frac{2}{5} \times \frac{3}{4} + \frac{8}{15} : \frac{2}{3} \times 5 \\
 & = \frac{3}{10} + \frac{4}{5} \times 5 \\
 & = \frac{3}{10} + 4 \\
 & = \frac{43}{10}
 \end{aligned}$$

$$\begin{aligned}
 b) \quad & 256,18 - 45,21 : 1,2 \times 0,8 + 1,2 \\
 & = 256,18 - 37,675 \times 0,8 + 1,2 \\
 & = 256,18 - 30,14 + 1,2 \\
 & = 227,24
 \end{aligned}$$

Bài 2:

Bài giải

a)

Nửa chu vi của thửa ruộng là:

$$480 : 2 = 240 \text{ (m)}$$

Chiều rộng của thửa ruộng là:

$$240 : 8 \times 3 = 90 \text{ (m)}$$

Chiều dài của thửa ruộng là:

$$240 - 90 = 150 \text{ (m)}$$

Diện tích thửa ruộng đó là:

$$90 \times 150 = 13500 \text{ (m}^2\text{)}$$

b)

$$\text{Đổi } 13500\text{m}^2 = 1,35\text{ha}$$

$$114 \text{ tạ} = 11,4 \text{ tấn}$$

Cả thửa ruộng đó thu hoạch được số tấn thóc là:

$$1,35 \times 11,4 : 2 = 7,695 \text{ (tấn)}$$

$$\text{Đáp số: a) } 13500\text{m}^2$$

$$\text{b) } 7,695 \text{ tấn}$$

Bài 3: Một hình thang có chiều cao là 12cm, đáy lớn dài 25cm và diện tích bằng diện tích hình vuông có cạnh 15cm. Tính độ dài đáy bé hình thang đó.

Bài giải

Diện tích hình vuông là:

$$15 \times 15 = 225 \text{ (cm}^2\text{)}$$

Tổng độ dài hai đáy của hình thang là:

$$225 \times 2 : 12 = 37,5 \text{ (cm)}$$

Độ dài đáy bé là:

$$37,5 - 25 = 12,5 \text{ (cm)}$$

Đáp số: 12,5cm.