



Họ và tên :

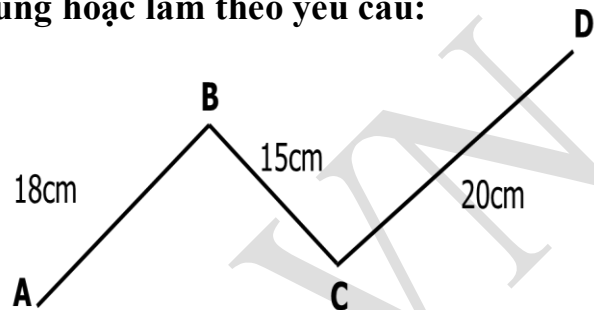
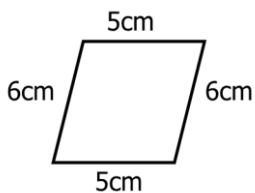
BÀI TẬP THEO TUẦN

Lớp: 3

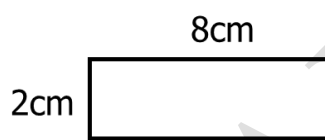
TUẦN 3**PHẦN I: TRẮC NGHIỆM****Khoanh tròn vào chữ đặt trước câu trả lời đúng hoặc làm theo yêu cầu:****Câu 1:** Cho đường gấp khúc sau:

Câu nào đúng:

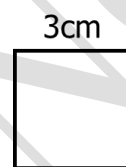
- A. Độ dài đường gấp khúc ABC là 56cm
- B. Độ dài đường gấp khúc BCD là 38cm
- C. Độ dài đường gấp khúc ABCD là 56cm
- D. Độ dài đường gấp khúc ABC là 33cm

**Câu 2:** Chu vi hình nào lớn nhất?

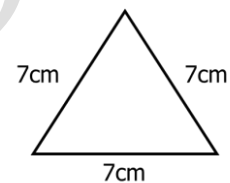
A



B



C



D

- A. Hình A
- B. Hình B
- C. Hình C
- D. Hình D

Câu 3: Đồng hồ bên chỉ:

- A. 3 giờ kém 15 phút
- B. 9 giờ 3 phút
- C. 3 giờ kém 10
- D. 9 giờ 15 phút

**Câu 4:** Mai sang nhà bà ngoại chơi lúc 18 giờ 30 phút, tức là Mai sang nhà bà ngoại vào lúc:

- A. 6 giờ 30 phút
- B. 6 giờ 30 phút chiều
- C. 8 giờ 30 phút chiều
- D. 18 giờ 30 phút chiều

Câu 5: Lớp 3A có 22 học sinh nam và 17 học sinh nữ. Vậy số học sinh nam nhiều hơn số học sinh nữ là:

- A. 39 bạn
- B. 49 bạn
- C. 15 bạn
- D. 5 bạn

Câu 6: Mẹ sinh Hà khi mẹ 28 tuổi. Hỏi khi Hà lên 8 tuổi thì mẹ Hà bao nhiêu tuổi?

A. 36 tuổi

B. 28 tuổi

C. 20 tuổi

D. 35 tuổi

Câu 7: Một cửa hàng bán được 200 lít dầu, sau đó nhập thêm 150 lít dầu nữa thì tổng dầu hiện có là 380 lít. Vậy lúc đầu, cửa hàng có tất cả bao nhiêu lít dầu?

A. 730 lít dầu

B. 580 lít dầu

C. 350 lít dầu

D. 430 lít dầu

PHẦN II: Tự luận

Bài 1: Điền số thích hợp vào chỗ trống:

Hình bên có:

..... đoạn thẳng

..... đường thẳng

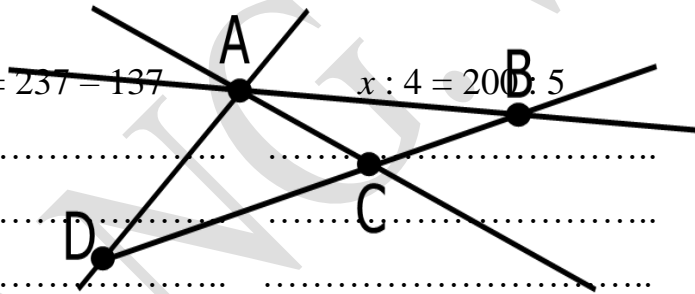
..... tam giác

Bài 2: Tìm x , biết:

$$x - 182 = 482 + 91$$

$$x \times 5 = 237 - 137$$

$$x : 4 = 200 : 5$$



Bài 3: Ngày đầu cửa hàng bán được 38kg đường, ngày sau cửa hàng bán được 56kg đường thì còn lại 40kg. Hỏi:

- Cả hai ngày cửa hàng bán được bao nhiêu ki-lô-gam đường?
- Trước khi bán, cửa hàng có bao nhiêu ki-lô-gam đường?

Bài giải

.....

Bài 4: Viết tiếp 3 số hạng thích hợp vào mỗi dãy số sau:

- 2; 5; 8; 11;;;
- 5; 10; 15; 20;;;
- 10; 30; 50; 70;;;

=====

CHÚC CON HOÀN THÀNH TỐT BÀI LÀM CỦA MÌNH

BUTVANG.VN

GỢI Ý/HƯỚNG DẪN GIẢI**PHẦN I: Khoanh tròn vào chữ đặt trước câu trả lời đúng hoặc làm theo yêu cầu:**

Câu	1	2	3	4	5	6	7
Đáp án	D	A	D	B	D	A	D

PHẦN II: TỰ LUẬN**Bài 1:** Điền số thích hợp vào chỗ trống:

Hình bên có:

6 đoạn thẳng

4 đường thẳng

3 tam giác

Bài 2: Tìm x , biết:

$$x - 182 = 482 + 91$$

$$x - 182 = 573$$

$$x = 573 + 182$$

$$x = 755$$

$$x \times 5 = 237 - 137$$

$$x \times 5 = 100$$

$$x = 100 : 5$$

$$x = 20$$

$$x : 4 = 200 : 5$$

$$x : 4 = 40$$

$$x = 40 \times 4$$

$$x = 160$$

Bài 3: Ngày đầu cửa hàng bán được 38kg đường, ngày sau cửa hàng bán được 56kg đường thì còn lại 40kg. Hỏi:

- Cả hai ngày cửa hàng bán được bao nhiêu ki-lô-gam đường?
- Trước khi bán, cửa hàng có bao nhiêu ki-lô-gam đường?

Bài giải

- Cả hai ngày cửa hàng bán được số ki-lô-gam đường là:

$$38 + 56 = 94 \text{ (kg)}$$

- Trước khi bán, cửa hàng có số ki-lô-gam đường là:

$$94 + 40 = 134 \text{ (kg)}$$

Đáp số: a. 94kg đường

b. 134kg đường

Bài 4: Viết tiếp 3 số hạng thích hợp vào mỗi dãy số sau:

d) 2; 5; 8; 11; 14 ; 17 ; 21

e) 5; 10; 15; 20; 25 ; 30 ; 35

f) 10; 30; 50; 70; 90 ; 110 ; 130