



Họ và tên :

BÀI TẬP THEO TUẦN

Lớp: 2

TUẦN 15**PHẦN I: Khoanh vào chữ đặt trước câu trả lời đúng****Câu 1:** Cho $74 - x = 48$. Giá trị đúng của x là:

- A. 26 B. 27 C. 28 D. 29

Câu 2: $100 - 27 = \dots\dots\dots$. Kết quả của phép tính trên là:

- A. 72 B. 73 C. 74 D. 75

Câu 3: $100 - 80 + 30 = \dots\dots\dots$. Số thích hợp điền vào chỗ chấm là:

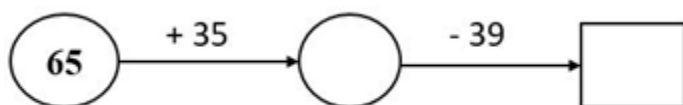
- A. 30 B. 40 C. 50 D. 60

Câu 4: $100 - 45 \dots 100 - 37$. Dấu ($>$; $<$; $=$) thích hợp điền vào chỗ chấm là:

- A. $>$ B. $<$ C. $=$

Câu 5: Dưới ao có 27 con vịt, sau khi một số con vịt lên bờ, dưới ao còn lại 9 con vịt. Số con vịt trên bờ là:

- A. 19 con B. 18 con C. 17 con D. 16 con

Câu 6: Số cần điền vào ô trống là:

- A. 100 B. 61 C. 59 D. 66

PHẦN II. TỰ LUẬN

Bài 1: Đặt tính rồi tính:

$100 - 47$

$100 - 68$

$29 + 38$

$100 - 19$

.....

.....

.....

Bài 2: Viết số thích hợp vào ô trống:

Số bị trừ	77	100		90	83
Số trừ	29		15	68	
Hiệu		56	47		38

Bài 3: Một cửa hàng có 25kg táo. Sau khi bán đi một số táo cửa hàng còn lại 17kg táo.

Hỏi cửa hàng đã bán bao nhiêu ki – lô – gam táo?

Bài giải


.....

.....

.....

Bài 4: a. Vẽ đường thẳng đi qua hai điểm A, B.

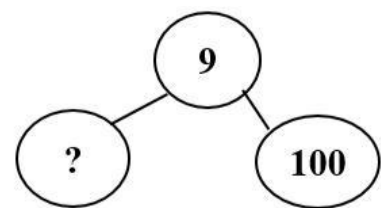
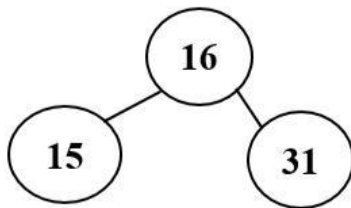
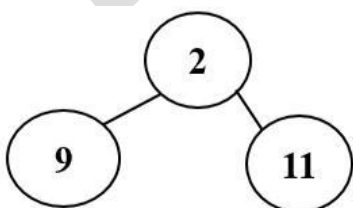
Vẽ đường thẳng đi qua hai điểm M, N.



b. Vẽ điểm C sao cho 3 điểm A, B, C thẳng hàng.

Vẽ thêm điểm P sao cho 3 điểm M, N, P thẳng hàng.

Bài 5: Thay dấu ? bằng số thích hợp:



Số cần điền vào dấu ? là:

GỢI Ý/HƯỚNG DẪN GIẢI

PHẦN I: TRẮC NGHIỆM

Câu	1	2	3	4	5	6
Đáp án	A	B	C	C	B	B

PHẦN II. TỰ LUẬN

Bài 1: Học sinh đặt tính theo cột dọc và được các kết quả đúng sau:

$$100 - 47 = 53 \quad 100 - 68 = 32 \quad 29 + 38 = 67 \quad 100 - 19 = 81$$

Bài 2: Viết số thích hợp vào ô trống:

Số bị trừ	77	100	62	90	83
Số trừ	29	44	15	68	45
Hiệu	48	56	47	22	38

Bài 3: Một cửa hàng có 25kg táo. Sau khi bán đi một số táo cửa hàng còn lại 17kg táo.

Hỏi cửa hàng đã bán bao nhiêu ki – lô – gam táo?

Bài giải

Cửa hàng đã bán số ki-lô-gam táo là:

$$25 - 17 = 8 \text{ (kg)}$$

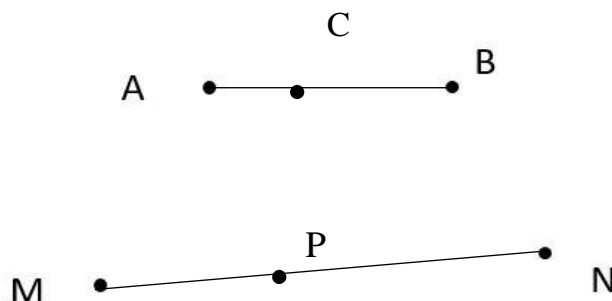
Đáp số: 8kg táo.

Bài 4: a. Vẽ đường thẳng đi qua hai điểm A, B.

Vẽ đường thẳng đi qua hai điểm M, N.

b. Vẽ điểm C sao cho 3 điểm A, B, C thẳng hàng.

Vẽ thêm điểm P sao cho 3 điểm M, N, P thẳng hàng



Bài 5: Thay dấu ? bằng số thích hợp

Số cần điền vào dấu ? là: 91

BUTVANG.VN

BUTVANG.VN