



Họ và tên : .....

**BÀI TẬP THEO TUẦN**

Lớp: 1

**TUẦN 5**

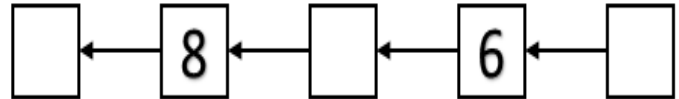
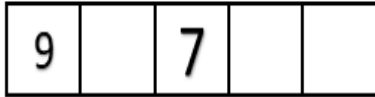
**Bài 1: Số?**

$6 > \dots > 4$

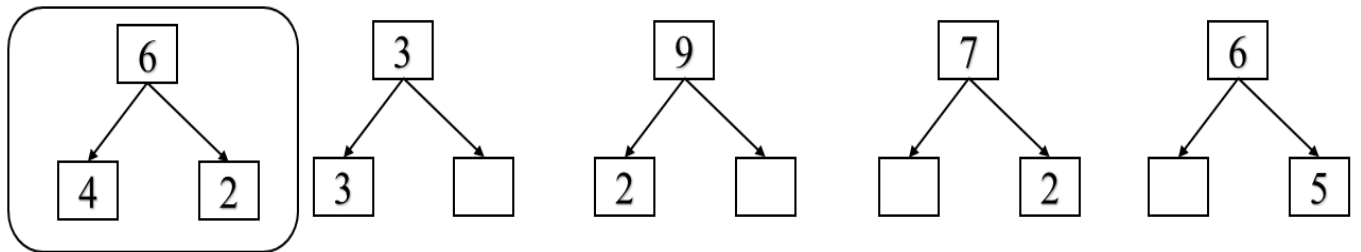
$8 = \dots$

$6 < \dots < 8$

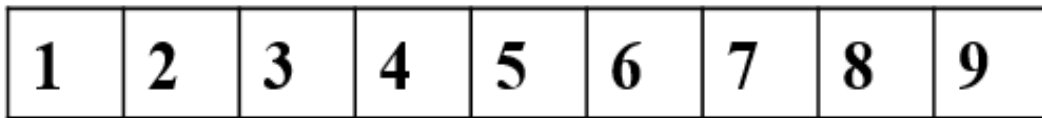
$7 < \dots < 9$



**Bài 2: Viết (theo mẫu):**



**Bài 3: a) Tô màu xanh vào các ô có số chẵn, tô màu đỏ vào các ô có số lẻ:**



**b) Sắp xếp các số: 2; 6; 3; 9 theo thứ tự:**

- Từ lớn đến bé: .....

- Từ bé đến lớn: .....

**Bài 4: Nói  với số thích hợp:**

$5 < \square$

$9 > \square$

$6 < \square < 9$



**Bài 5:**

a) Vẽ tiếp hình còn thiếu vào ô trống:



b) Hình thứ chín là hình .....

---

CHÚC CON HOÀN THÀNH TỐT BÀI LÀM CỦA MÌNH

## GỢI Ý/HƯỚNG DẪN GIẢI

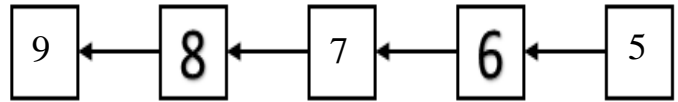
### Bài 1: Số?

$6 > 5 > 4$

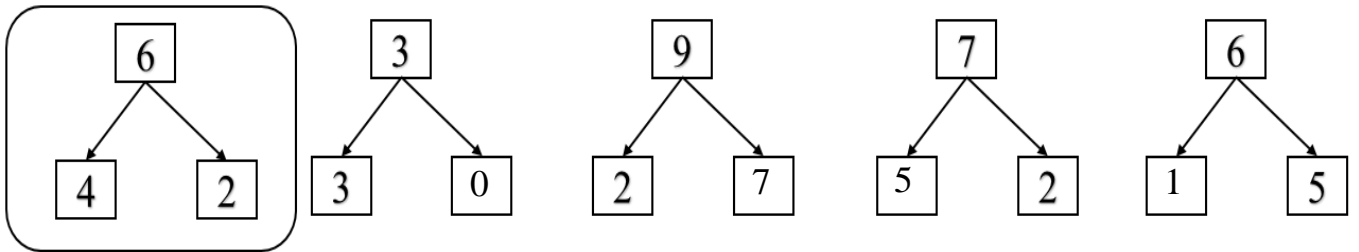
$8 = 8$

$6 < 7 < 8$

$7 < 8 < 9$



### Bài 2: Viết (theo mẫu):



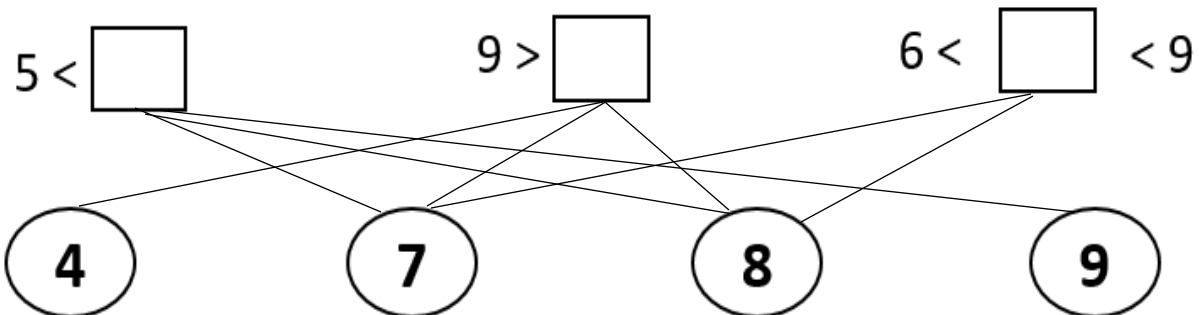
### Bài 3: a) Tô màu xanh vào các ô có số chẵn, tô màu đỏ vào các ô có số lẻ:

- Các số 1, 3, 5, 7, 9 là các số lẻ, con tô màu đỏ
- Các số 2, 4, 6, 8 là các số chẵn, con tô màu xanh.

### b) Sắp xếp các số: 2; 6; 3; 9 theo thứ tự:

- Từ lớn đến bé: 9 ; 6 ; 3 ; 2
- Từ bé đến lớn: 2 ; 3 ; 6 ; 9

### Bài 4: Nối với số thích hợp:



**Bài 5:**

a) Vẽ tiếp hình còn thiếu vào ô trống:



b) Hình thứ chín là hình vuông

BUTVANG.VN