



Họ và tên :

BÀI TẬP THEO TUẦN

Lớp: 1

TUẦN 7

Bài 1. Tính:

$1 + 1 = \dots$

$1 + 2 = \dots$

$1 + 5 = \dots$

$1 + 4 = \dots$

$2 + 2 = \dots$

$2 + 4 = \dots$

$3 + 3 = \dots$

$3 + 2 = \dots$

$4 + 1 = \dots$

$2 + 3 = \dots$

$4 + 0 = \dots$

$0 + 5 = \dots$

Bài 2. Tính:

$$\begin{array}{r} 2 \\ + \\ 2 \\ \hline \end{array}$$

$$\begin{array}{r} 2 \\ + \\ 4 \\ \hline \end{array}$$

$$\begin{array}{r} 3 \\ + \\ 1 \\ \hline \end{array}$$

$$\begin{array}{r} 3 \\ + \\ 3 \\ \hline \end{array}$$

$$\begin{array}{r} 0 \\ + \\ 6 \\ \hline \end{array}$$

.....

.....

.....

.....

.....

Bài 3. Số?

$2 + \dots = 3$

$1 + 2 = 2 + \dots$

$4 = \dots + 2$

$2 + 2 = \dots + 1$

Bài 4. Điền dấu (>; <; =) thích hợp vào chỗ chấm:

$2 + 2 \dots 3$

$4 \dots 2 + 1$


$3 + 1 \dots 2 + 2$

$1 + 1 \dots 4$

$2 \dots 1 + 1$


$3 + 1 \dots 1 + 1 + 1$

Bài 5. Viết phép tính thích hợp:



--	--	--	--	--

--	--	--	--	--



--	--	--	--	--

--	--	--	--	--

Bài 6: Số?

Năm nay, em của Nam 1 tuổi.

a) Năm sau, em của Nam tuổi.

b) Ba năm nữa, em của Nam tuổi.

Bài 7: Một bạn đi trước hai bạn, một bạn đi giữa hai bạn, một bạn đi sau hai bạn. Vậy có tất cả bạn.

CHÚC CON HOÀN THÀNH TỐT BÀI LÀM CỦA MÌNH

GỢI Ý/HƯỚNG DẪN GIẢI

Bài 1. Tính:

$1 + 1 = 2$

$1 + 2 = 3$

$1 + 5 = 6$

$1 + 4 = 5$

$2 + 2 = 4$

$2 + 4 = 6$

$3 + 3 = 6$

$3 + 2 = 5$

$4 + 1 = 5$

$2 + 3 = 5$

$4 + 0 = 4$

$0 + 5 = 5$

Bài 2. Tính:

$$\begin{array}{r} 2 \\ + 2 \\ \hline 4 \end{array}$$

$$\begin{array}{r} 2 \\ + 4 \\ \hline 6 \end{array}$$

$$\begin{array}{r} 3 \\ + 1 \\ \hline 4 \end{array}$$

$$\begin{array}{r} 3 \\ + 3 \\ \hline 6 \end{array}$$

$$\begin{array}{r} 0 \\ + 6 \\ \hline 6 \end{array}$$

Bài 3. Số?

$2 + 1 = 3$

$1 + 2 = 2 + 1$

$4 = 2 + 2$

$2 + 2 = 3 + 1$

Bài 4. Điền dấu (>; <; =) thích hợp vào chỗ chấm:

$2 + 2 > 3$

$4 > 2 + 1$


$3 + 1 = 2 + 2$

$1 + 1 < 4$

$2 = 1 + 1$


$3 + 1 > 1 + 1 + 1$

Bài 5. Viết phép tính thích hợp:



2	+	1	=	3
---	---	---	---	---

1	+	2	=	3
---	---	---	---	---



3	+	1	=	4
---	---	---	---	---

1	+	3	=	4
---	---	---	---	---

Bài 6. Số?

Năm nay, em của Nam 1 tuổi.

c) Năm sau, em của Nam 2 tuổi.

d) Ba năm nữa, em của Nam 4 tuổi.

Bài 7: Một bạn đi trước hai bạn, một bạn đi giữa hai bạn, một bạn đi sau hai bạn. Vậy có tất cả 3 bạn.