



Họ và tên :

BÀI TẬP THEO TUẦN

Lớp: 1

TUẦN 4

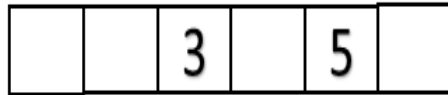
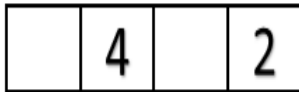
Bài 1: Số?

- 1 >
- 3 =
- 4 =
- 1 < < 3

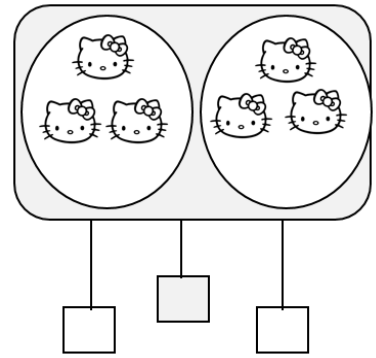
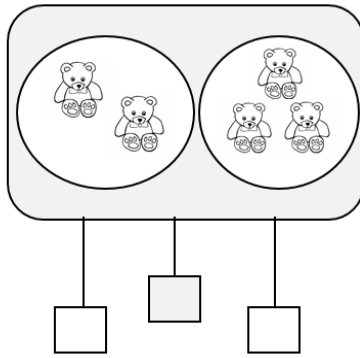
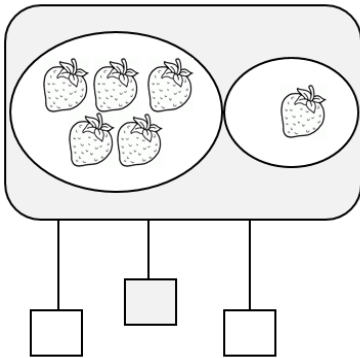
- = 6
- 2 > > 0
- 5 < < 7
- 3 < < 5



Bài 2: Số?

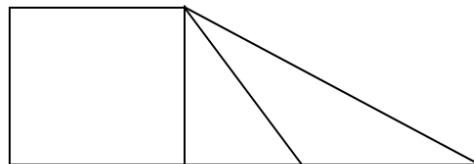


Bài 3: Số?




Bài 4: Hình vẽ dưới đây có:

-
-



Bài 5: Tính từ trái sang phải:

- a) Tô màu vàng hình thứ hai.
- b) Tô màu xanh hình thứ năm.



GỢI Ý/HƯỚNG DẪN GIẢI

Bài 1: Số?

$1 > 0$

$3 = 3$

$4 = 4$

$1 < 2 < 3$

$6 = 6$

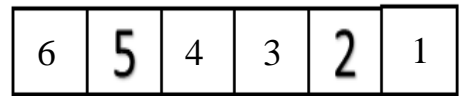
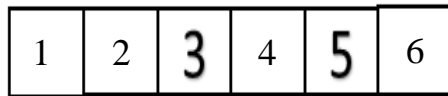
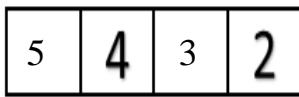
$2 > 1 > 0$

$5 < 6 < 7$

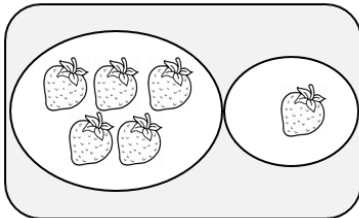
$3 < 4 < 5$



Bài 2: Số?




Bài 3: Số?



5

>


1



2

<

3



3

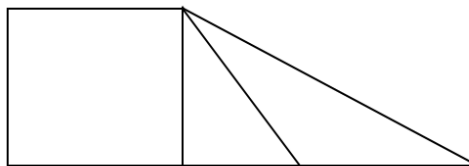
=

3

Bài 4: Hình vẽ dưới đây có:

1

3



Bài 5: Tính từ trái sang phải:

– Hình thứ hai là con gấu, con tô màu vàng nhé!

– Hình thứ năm là con voi, con tô màu xanh nhé!