



Họ và tên :

BÀI TẬP THEO TUẦN

Lớp: 1

TUẦN 8

Bài 1:

a. Tính:

$2 + 3 = \dots\dots$

$2 + 1 + 1 = \dots\dots$

$4 + 0 + 1 = \dots\dots$

$0 + 4 = \dots\dots$

$1 + 1 + 3 = \dots\dots$

$1 + 2 + 2 = \dots\dots$

b. Số?

$5 + \dots\dots = 5$

$1 + 4 = 2 + \dots\dots\dots$

$4 = \dots\dots + 3$

$2 + \dots\dots = \dots\dots + 2 = 5$

Bài 2: Nói với số thích hợp:

$\square < 1 + 4$

$2 + 0 < \square < 5$


1

4

3


5

Bài 3: Viết phép tính thích hợp:



--	--	--	--	--	--

--	--	--	--	--	--



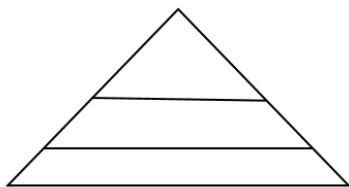
--	--	--	--	--	--

--	--	--	--	--	--

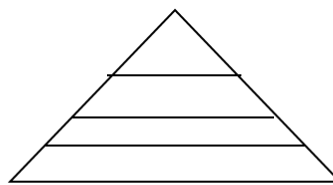
Bài 4: Điền số vào sao cho các số ở 3 số liên tiếp cộng với nhau bằng 4.

0	3			1				
---	---	--	--	---	--	--	--	--

Bài 5: Hình vẽ dưới đây có:

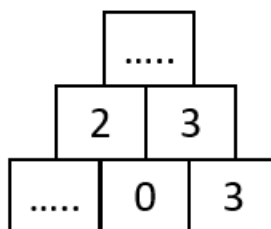
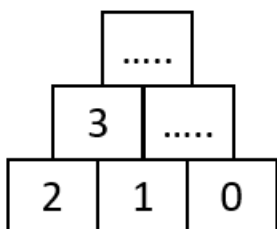


..... \triangle



..... \triangle

Bài 6: Số?



CHÚC CON HOÀN THÀNH TỐT BÀI LÀM CỦA MÌNH

GỢI Ý/HƯỚNG DẪN GIẢI

Bài 1:

a. Tính:

$2 + 3 = 5$

$2 + 1 + 1 = 4$

$4 + 0 + 1 = 5$

$0 + 4 = 4$

$1 + 1 + 3 = 4$

$1 + 2 + 2 = 5$

b. Số?

$5 + 0 = 5$

$1 + 4 = 2 + 2$

$4 = 1 + 3$

$2 + 3 = 3 + 2 = 5$

Bài 2: Nối với số thích hợp:

$\square < 1 + 4$

$2 + 0 < \square < 5$


1

4

3


5

Bài 3: Viết phép tính thích hợp:



$3 + 2 = 5$

$2 + 3 = 5$



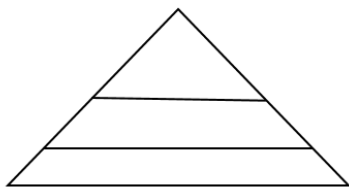
$4 + 0 = 4$

$0 + 4 = 4$

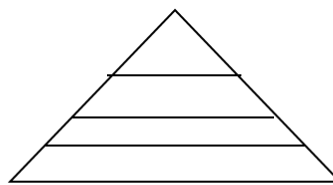
Bài 4: Điền số vào sao cho các số ở 3 số liên tiếp cộng với nhau bằng 4.

0	3	1	0	3	1	0	3	0
---	---	---	---	---	---	---	---	---

Bài 5: Hình vẽ dưới đây có:



...3... △



...4... △

Bài 6: Số?

