



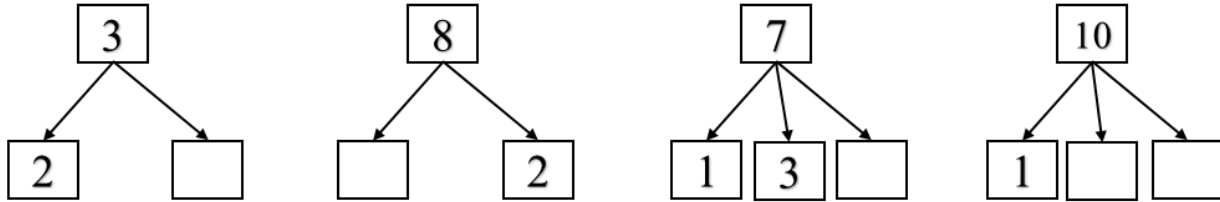
Họ và tên :

BÀI TẬP THEO TUẦN

Lớp: 1

TUẦN 6

Bài 1: Số?



Bài 2: Số?

- a. Viết các số từ 1 đến 3: Từ 1 đến 3 có số.
- b. Viết các số từ 5 đến 9: Từ 5 đến 9 có số.
- c. Viết các số từ 4 đến 10: Từ 4 đến 10 có số chẵn.

Bài 3: Nối với số thích hợp:

$4 < \square$

$8 > \square$

$5 < \square < 8$

0

6

7

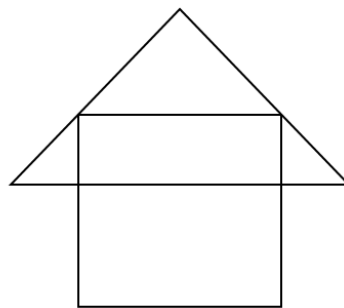
9

Bài 4: Sắp xếp các số 4; 8; 10; 7; 0 theo thứ tự:

- a. Từ bé đến lớn:
- b. Từ lớn đến bé:

Bài 5: Hình vẽ dưới đây có:

.....

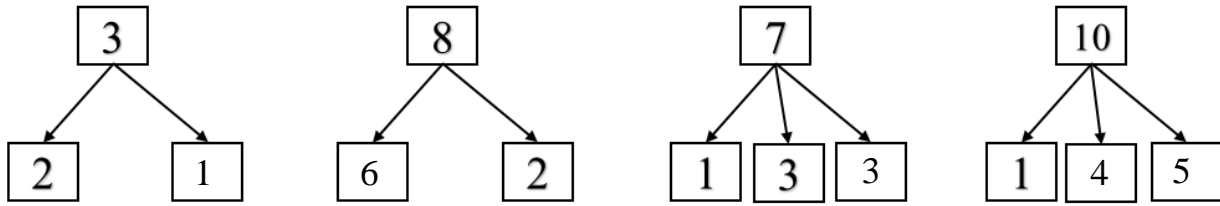


=====

CHÚC CON HOÀN THÀNH TỐT BÀI LÀM CỦA MÌNH

GỢI Ý/HƯỚNG DẪN GIẢI

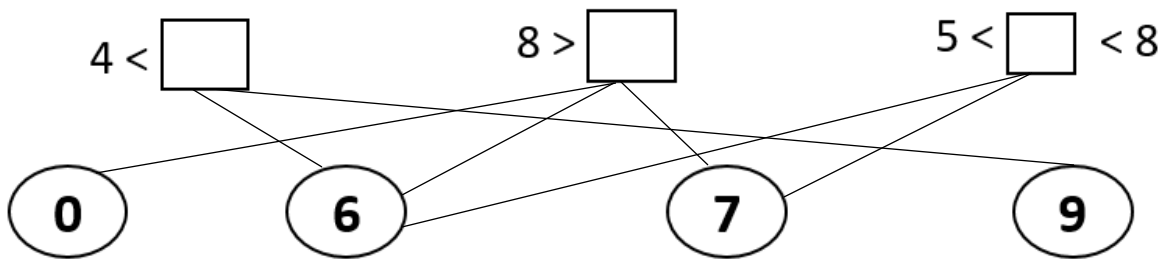
Bài 1: Số?



Bài 2: Số?

- a. Viết các số từ 1 đến 3: 1, 2, 3. Từ 1 đến 3 có 3 số.
- b. Viết các số từ 5 đến 9: 5, 6, 7, 8, 9. Từ 5 đến 9 có 5 số.
- c. Viết các số từ 4 đến 10: 4, 5, 6, 7, 8, 9, 10. Từ 4 đến 10 có 4 số chẵn.

Bài 3: Nối với số thích hợp:



Bài 4: Sắp xếp các số 4; 8; 10; 7; 0 theo thứ tự:

- a. Từ bé đến lớn: 0, 4, 7, 8, 10.
- b. Từ lớn đến bé: 10, 8, 7, 4, 0.

Bài 5: Hình vẽ dưới đây có:

- 2
- 4

