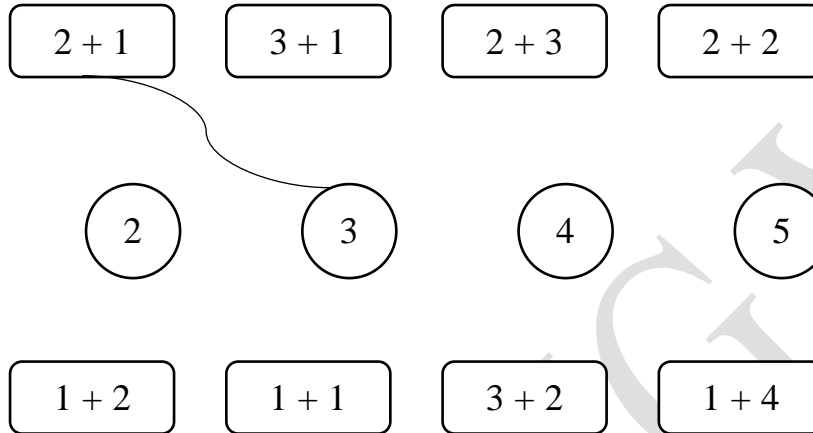




Họ và tên :

BÀI TẬP THEO TUẦN

Lớp: 1

TUẦN 9**Bài 1. Nói (theo mẫu):****Bài 2. Viết số thích hợp vào ô trống:**

$4 + 1 = \square$

$3 + \square = 6$

$6 + 0 = \square$

$\square + 4 = 6$

$\square + 1 = 4$

$3 = \square + 3$

Bài 3. Tính:

$3 + 1 + 2 = \dots\dots$

$4 + 0 + 1 = \dots\dots$

$2 + 1 + 0 = \dots\dots$

$1 + 2 + 3 = \dots\dots$

Bài 4. Điền dấu (>, <, =) thích hợp vào chỗ chấm:

$3 + 2 \dots 3 + 1$

$3 + 3 \dots 6 + 0$

$1 + 4 \dots 4 + 1$

$5 + 1 \dots 2 + 2$

Bài 5: Số?


$$\textcircled{1} \xrightarrow{+2} \textcircled{\quad} \xrightarrow{+1} \textcircled{\quad}$$

$$\textcircled{2} \xrightarrow{+2} \textcircled{\quad} \xrightarrow{+1} \textcircled{\quad}$$

$$\textcircled{3} \xrightarrow{-2} \textcircled{\quad} \xrightarrow{+3} \textcircled{\quad}$$

$$\textcircled{2} \xrightarrow{+1} \textcircled{\quad} \xrightarrow{-1} \textcircled{\quad}$$

Bài 6: Viết phép tính thích hợp:



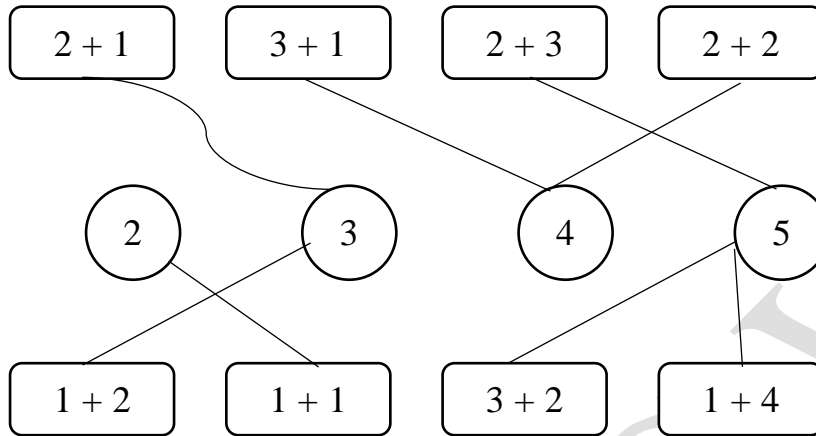
Bài 7: Điền số vào sao cho các số ở 3 ô liên tiếp cộng với nhau bằng 5:

2	0									
---	---	--	--	--	--	--	--	--	--	--

CHÚC CON HOÀN THÀNH TỐT BÀI LÀM CỦA MÌNH

GỢI Ý/HƯỚNG DẪN GIẢI

Bài 1. Nói (theo mẫu):



Bài 2. Viết số thích hợp vào ô trống:

$$4 + 1 = \boxed{5}$$

$$3 + \boxed{3} = 6$$

$$6 + 0 = \boxed{6}$$

$$\boxed{2} + 4 = 6$$

$$\boxed{3} + 1 = 4$$

$$3 = \boxed{0} + 3$$

Bài 3. Tính:

$$3 + 1 + 2 = 6$$

$$4 + 0 + 1 = 5$$

$$2 + 1 + 0 = 3$$

$$1 + 2 + 3 = 6$$

Bài 4. Điền dấu (>, <, =) thích hợp vào chỗ chấm:

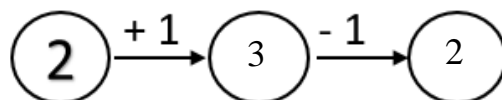

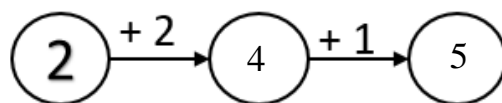
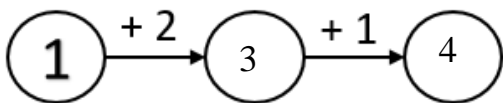
$$3 + 2 > 3 + 1$$

$$3 + 3 = 6 + 0$$


$$1 + 4 = 4 + 1$$

$$5 + 1 > 2 + 2$$

Bài 5. Số?



Bài 6: Viết phép tính thích hợp:



1	+	2	=	3
---	---	---	---	---

2	+	1	=	3
---	---	---	---	---

3	-	2	=	1
---	---	---	---	---

3	-	1	=	2
---	---	---	---	---

Bài 7: Điền số vào sao cho các số ở 3 ô liên tiếp cộng với nhau bằng 5:

2	0	3	2	0	3	2	0	3	2	0
---	---	---	---	---	---	---	---	---	---	---