



Họ và tên :

BÀI TẬP THEO TUẦN

Lớp: 2

TUẦN 5**PHẦN I: Khoanh vào chữ đặt trước câu trả lời đúng trong mỗi câu sau:****Câu 1:** Tổng của 28 và 46 là:

- A. 64 B. 54 C. 74 D. 84

Câu 2: Trong phép tính: $47 = 39 + 8$; số 47 được gọi là:

- A. Số hạng B. Số bị trừ C. Hiệu D. Tổng

Câu 3: Cho: $69 - 21 < \dots < 36 + 14$. Số cần điền vào chỗ chấm là:

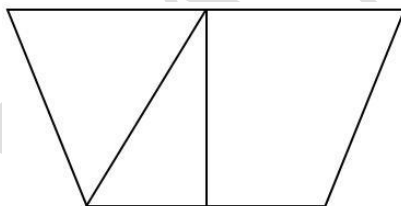
- A. 94 B. 49 C. 48 D. 50

Câu 4: Thu có 15 quyển vở, Hoa có nhiều hơn Thu 8 quyển vở. Hỏi Hoa có bao nhiêu quyển vở?

- A. 23 quyển vở B. 7 quyển vở C. 22 quyển vở D. 8 quyển vở

Câu 5: Số hình tam giác và hình tứ giác có trong hình bên là:

- A. 2 và 3
B. 3 và 2
C. 2 và 4
D. 4 và 2

**Câu 6:** Nối phép tính ở hàng trên với kết quả đúng ở hàng dưới:

29 + 17	18 + 58	36 + 48	19 + 58	54 + 8
84	76	46	62	77

PHẦN II. TỰ LUẬN

Bài 1: Đặt tính rồi tính

a. $66 + 24$

b. $19 + 27$

c. $38 + 24$

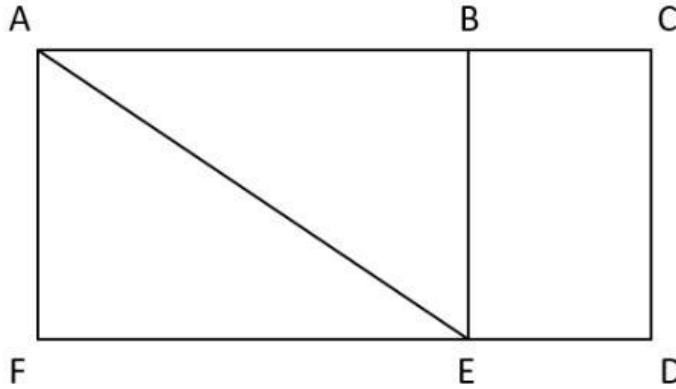
d. $45 + 26$

.....

.....

.....

Bài 2: Hình vẽ bên có:



a. Có hình chữ nhật.

Đó là các hình chữ nhật:

b. Có hình tứ giác.

Đó là các hình tứ giác:

Bài 3: Đoạn thẳng AB dài 8cm. Đoạn thẳng BC dài hơn đoạn thẳng AB 3cm.

a. Hỏi đoạn thẳng BC dài bao nhiêu xăng – ti – mét?

Bài giải

.....


.....

.....

b. Vẽ đoạn thẳng BC.

.....

Bài 4: Hãy viết tất cả các phép tính có các số hạng giống nhau sao cho tổng bằng 6.



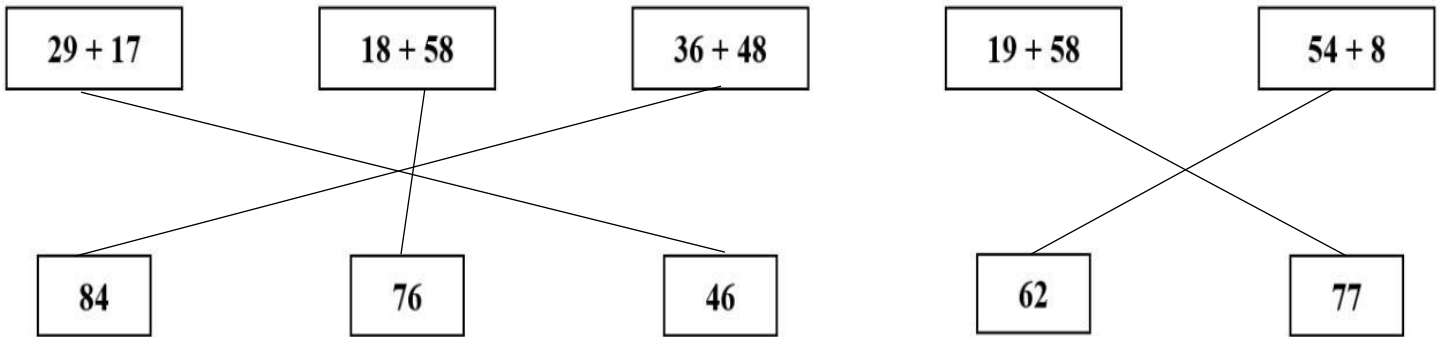
CHÚC CON HOÀN THÀNH TỐT BÀI LÀM CỦA MÌNH

GỢI Ý/HƯỚNG DẪN GIẢI

PHẦN I: TRẮC NGHIỆM

Câu	1	2	3	4	5
Đáp án	C	D	B	A	A

Câu 6: Nối phép tính ở hàng trên với kết quả đúng ở hàng dưới:



PHẦN II. TỰ LUẬN

Bài 1: Học sinh đặt tính theo cột dọc và được các kết quả đúng.

a. $66 + 24 = 80$

b. $19 + 27 = 46$

c. $38 + 24 = 64$

d. $45 + 26 = 73$

Bài 2: Hình vẽ bên có:

a. Có 3 hình chữ nhật.

Đó là các hình chữ nhật: ABEF ; BCDE ; ACDF

b. Có 1 hình tứ giác.

Đó là các hình tứ giác: AEDC

Bài 3: Đoạn thẳng AB dài 8cm. Đoạn thẳng BC dài hơn đoạn thẳng AB 3cm.

a. Hỏi đoạn thẳng BC dài bao nhiêu xăng – ti – mét?

Bài giải

Đoạn thẳng BC dài số xăng-ti-mét là:

$$8 + 3 = 11 \text{ (cm)}$$

Đáp số: 11cm

b. Học sinh dùng thước, bút chì vẽ đoạn thẳng BC dài 11cm

Bài 4: Hãy viết tất cả các phép tính có các số hạng giống nhau sao cho tổng bằng 6.

$$3 + 3 = 6$$

BUTVANG.VN