



Họ và tên :

BÀI TẬP THEO TUẦN

Lớp: 1

TUẦN 19

Bài 1. Điền số thích hợp vào chỗ chấm:

- Số liền trước của số 10 là: ...
- Số liền trước của số 12 là: ...
- Số gồm 1 chục và 5 đơn vị là: ...
- Số liền trước của số 15 là: ...
- Số gồm 1 chục và 2 đơn vị là: ...
- Số liền sau của số 14 là: ...
- Số gồm 1 chục và 0 đơn vị là: ...
- Số liền sau của số 16 là: ...


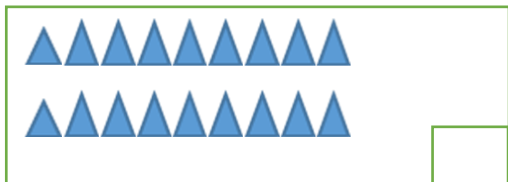
Bài 2. Nói hình vẽ với số thích hợp:

Bài 3. Điền số thích hợp nhất vào ô trống:

10					15			18
----	--	--	--	--	----	--	--	----

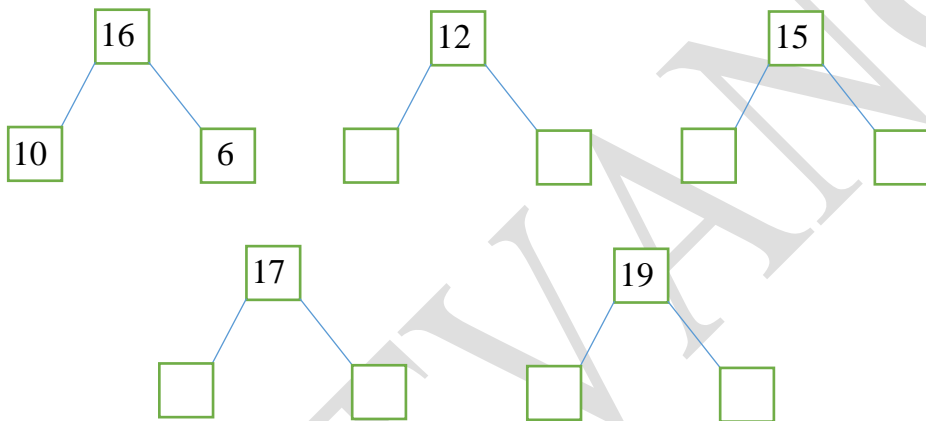
19				15			12	
----	--	--	--	----	--	--	----	--

Bài 4. Điền số thích hợp vào ô trống:



Bài 5. Điền số thích hợp vào ô trống (theo mẫu):

Mẫu:



CHÚC CON HOÀN THÀNH TỐT BÀI LÀM CỦA MÌNH

GỢI Ý/HƯỚNG DẪN GIẢI

Bài 1. Điền số thích hợp vào chỗ chấm:

- Số liền trước của số 10 là: 9
- Số liền trước của số 12 là: 11
- Số gồm 1 chục và 5 đơn vị là: 15
- Số liền trước của số 15 là: 14
- Số gồm 1 chục và 2 đơn vị là: 12
- Số liền sau của số 14 là: 15
- Số gồm 1 chục và 0 đơn vị là: 10
- Số liền sau của số 16 là: 17

Bài 2. Nối hình vẽ với số thích hợp:

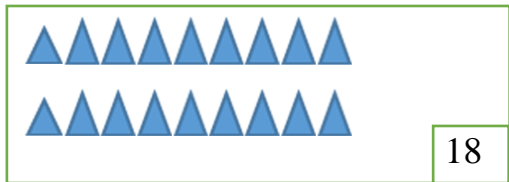
The diagram shows six blue ovals, each containing a certain number of orange dots. In the center, there are six green circles, each containing a number. Blue lines connect each oval to its corresponding number: the oval with 15 dots connects to the circle with 15, the oval with 10 dots connects to the circle with 10, the oval with 11 dots connects to the circle with 11, the oval with 13 dots connects to the circle with 13, the oval with 14 dots connects to the circle with 14, and the oval with 12 dots connects to the circle with 12.

Bài 3. Điền số thích hợp nhất vào ô trống:

10	11	12	13	14	15	16	17	18
----	----	----	----	----	----	----	----	----

19	18	17	16	15	14	13	12	11
----	----	----	----	----	----	----	----	----

Bài 4. Điền số thích hợp vào ô trống:



Bài 5. Điền số thích hợp vào ô trống (theo mẫu):

Mẫu:

