



Họ và tên :

BÀI TẬP THEO TUẦN

Lớp: 2

TUẦN 14**Câu 1:** Số bị trừ là 58, số trừ là 32, hiệu là:

- A. 90 B. 80 C. 26 D. 16

Câu 2: $46\text{kg} + 28\text{kg} + 9\text{kg}$. Kết quả của phép tính trên là:

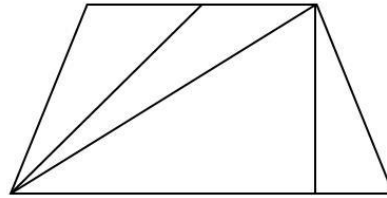
- A. 73kg B. 83kg C. 72kg D. 38kg

Câu 3: $4\text{dm } 6\text{cm} = \dots\dots\dots$. Số và đơn vị thích hợp điền vào chỗ chấm là:

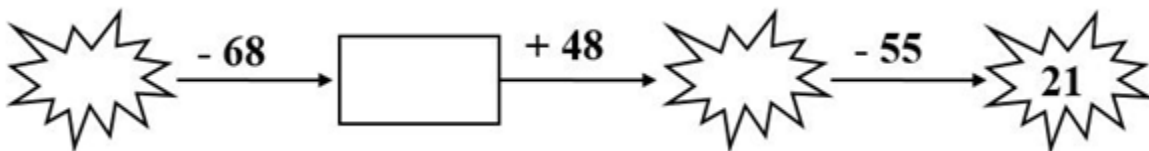
- A. 46dm B. 10dm C. 46cm D. 46

Câu 4: Hình bên có bao nhiêu hình tam giác và bao nhiêu hình tứ giác?

- A. 4 và 4 C. 6 và 4
B. 6 và 3 D. 5 và 3

**Câu 5:** Em nhẹ hơn anh 7kg. Anh cân nặng 52kg. Hỏi em cân nặng bao nhiêu ki – lô – gam?

- A. 59kg B. 45kg C. 46kg D. 46

Câu 6: Số cần điền vào ô trống là:

- A. 76 B. 28 C. 34 D. 96

PHẦN II. TỰ LUẬN

Bài 1: Nối các phép tính với kết quả đúng:

$41 - 13$	$53 - 25$	$72 - 27$
$94 - 49$	$28 + 8$	$27 + 18$
$28 + 8$	$76 - 58$	$52 - 24$

18	28
36	45

Bài 2: Tìm y

a. $39 + y = 49 + 8$

b. $y - 43 = 19 - 11$

.....

.....

Bài 3: Tính

a. $53 + 23 - 9 =$

b. $55 - 27 + 19 =$

$=$

$=$

c. $7\text{kg} + 9\text{kg} - 8\text{kg} =$

$3\text{dm} + 58\text{dm} - 41\text{dm} =$

$=$

$=$

Bài 4: Bao gạo thứ nhất nặng 55kg, bao gạo thứ nhất nhẹ hơn bao gạo thứ hai 8kg. Hỏi bao gạo thứ hai nặng bao nhiêu ki – lô – gam?

Bài giải

.....

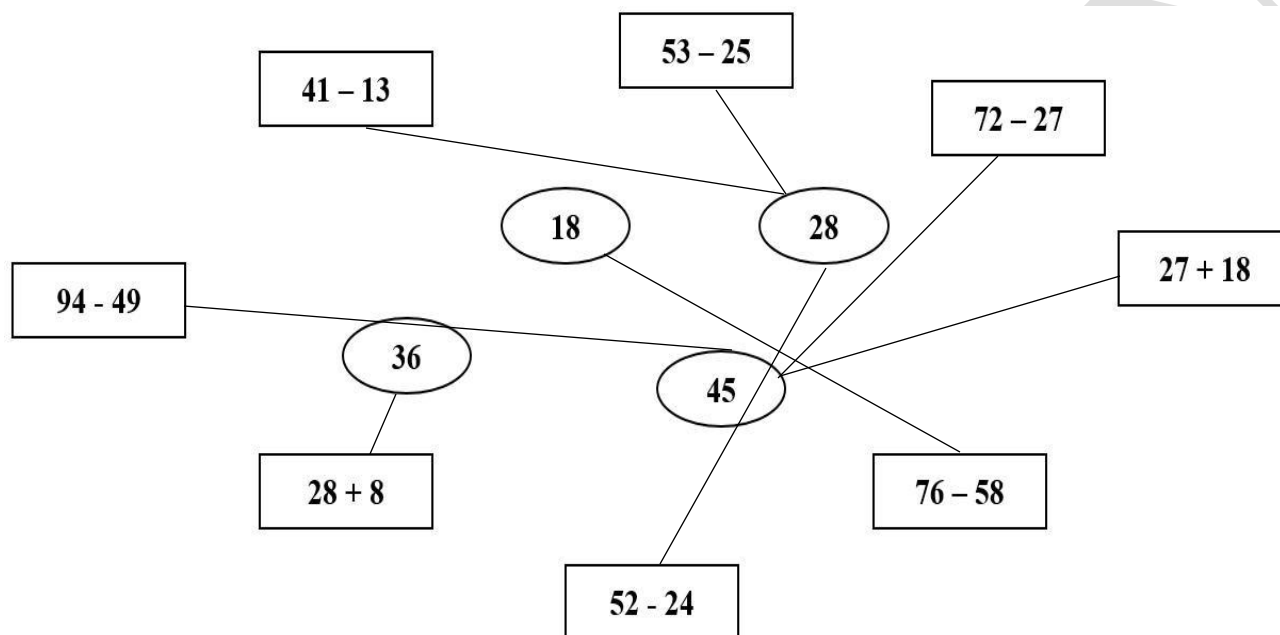
GỢI Ý/HƯỚNG DẪN GIẢI

PHẦN I: TRẮC NGHIỆM

Câu	1	2	3	4	5	6
Đáp án	C	B	C	C	B	B

PHẦN II. TỰ LUẬN

Bài 1: Nối các phép tính với kết quả đúng:



Bài 2: Tìm y

a. $39 + y = 49 + 8$

$$39 + y = 57$$

$$y = 57 - 39$$

$$y = 18$$

b. $y - 43 = 19 - 11$

$$y - 43 = 8$$

$$y = 8 + 43$$

$$y = 51$$

Bài 3: Tính

a. $53 + 23 - 9 = 76 - 9$

$$= 67$$

b. $55 - 27 + 19 = 28 + 19$

$$= 47$$

c. $7\text{kg} + 9\text{kg} - 8\text{kg} = 16\text{kg} - 8\text{kg}$

$$= 8\text{kg}$$

$3\text{dm} + 58\text{dm} - 41\text{dm} = 61\text{dm} - 41\text{dm}$

$$= 20\text{dm}$$

Bài 4:

Bài giải

Bao thứ hai nặng số ki-lô-gam là:

$$55 + 8 = 63 \text{ (kg)}$$

Đáp số: 63kg

BUTVANG.VN

BUTVANG.VN

BUTVANG.VN