



Họ và tên :

BÀI TẬP THEO TUẦN

Lớp: 2

TUẦN 4**PHẦN I: Khoanh vào chữ đặt trước câu trả lời đúng trong mỗi câu sau:****Câu 1:** $18\text{cm} + 2\text{dm} = ?$

- A. 20dm B. 20cm C. 30dm D. 38cm

Câu 2: Tổng của 56 và 29 là:

- A. 75 B. 85 C. 86 D. 95

Câu 3: Cho: $44 < \dots < 46$. Chữ số thích hợp để điền vào ô trống là:

- A. 45 B. 44 C. 47 D. 48

Câu 4: Tổ Một trồng được 38 cây cam, tổ Hai trồng được 25 cây bưởi. Hỏi cả hai tổ trồng được tất cả bao nhiêu cây?

- A. 63 B. 62 cây C. 63 cây D. 64 cây

Câu 5: Số trừ nhỏ hơn số bị trừ 20. Vậy hiệu của hai số là:

- A. 0 B. 10 C. 20 D. Không tìm được

Câu 6: Nối phép tính ở hàng trên với kết quả đúng ở hàng dưới:

$29 + 17$	$18 + 58$	$36 + 48$	$19 + 58$	$54 + 8$
84	76	46	62	77

PHẦN II. TỰ LUẬN**Bài 1:** Đặt tính rồi tính

a. $47 + 23$

b. $62 + 19$

c. $56 + 27$

d. $48 + 36$

.....

.....

.....

Bài 2: Lan gấp được 19 cái thuyền, Huệ gấp được 23 cái thuyền. Hỏi cả hai bạn gấp được bao nhiêu cái thuyền?

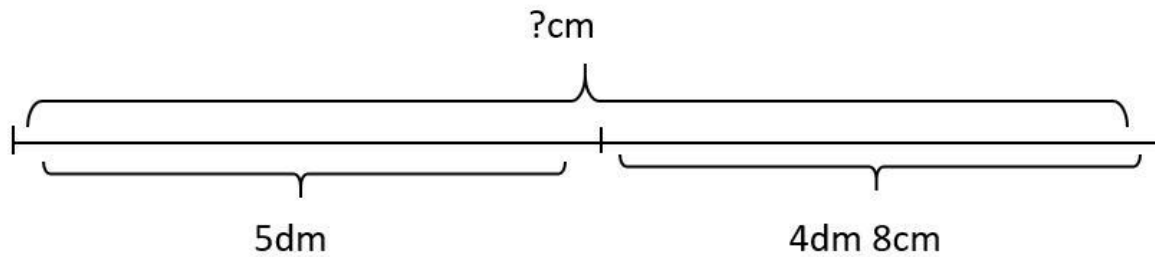
Bài giải

.....

.....

.....

Bài 3: Giải bài toán theo tóm tắt sau:

*Bài giải*

.....

.....

.....

Bài 4: Viết phép cộng hai số hạng có tổng bằng 10, biết số hạng thứ nhất là số có hai chữ số và số hạng thứ hai là số có một chữ số.

.....

=====

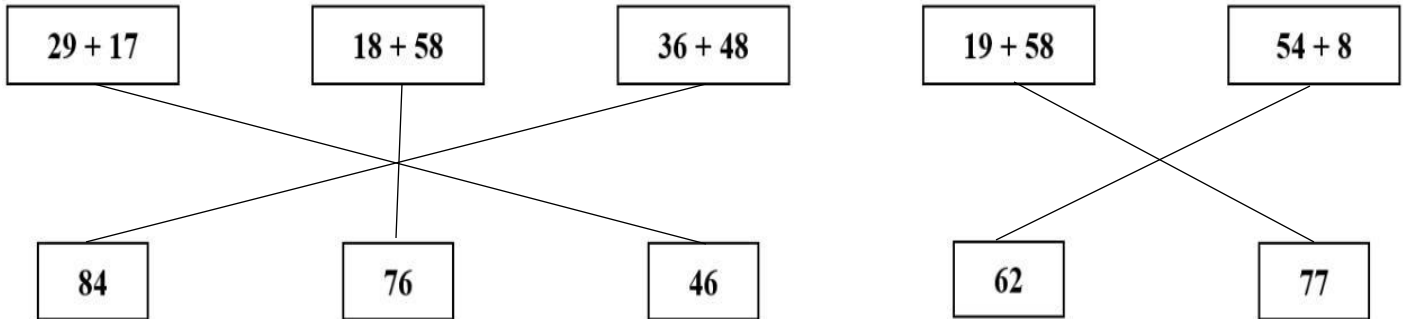
CHÚC CON HOÀN THÀNH TỐT BÀI LÀM CỦA MÌNH

GỢI Ý/HƯỚNG DẪN GIẢI

PHẦN I: TRẮC NGHIỆM

Câu	1	2	3	4	5
Đáp án	D	B	A	C	C

Câu 6: Nối phép tính ở hàng trên với kết quả đúng ở hàng dưới:



PHẦN II. TỰ LUẬN

Bài 1: Học sinh đặt tính theo cột dọc và được các kết quả đúng.

a. $47 + 23 = 70$

b. $62 + 19 = 81$

c. $56 + 27 = 83$

d. $48 + 36 = 84$

Bài 2: Lan gấp được 19 cái thuyền, Huệ gấp được 23 cái thuyền. Hỏi cả hai bạn gấp được bao nhiêu cái thuyền?

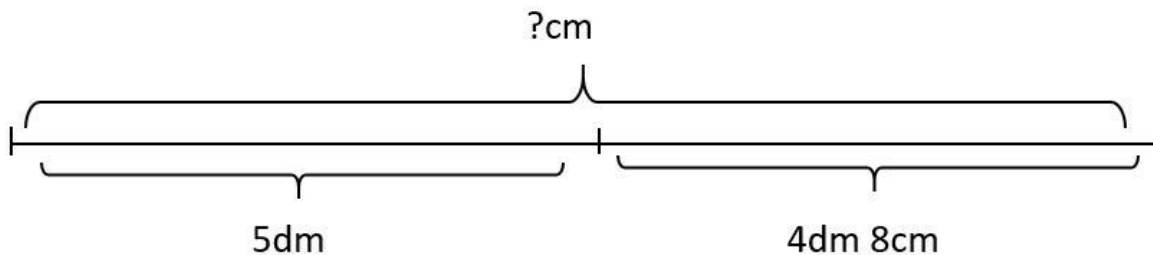
Bài giải

Cả hai bạn gấp được số cái thuyền là:

$$19 + 30 = 49 \text{ (cái thuyền)}$$

Đáp số: 49 cái thuyền

Bài 3: Giải bài toán theo tóm tắt sau:



Bài giải

Đôi: $4 \text{ đn } 8 \text{ cm} = 48 \text{ cm}$

Cả hai đoạn thẳng dài số xăng-ti-mét là:

$$50 + 48 = 98 \text{ (cm)}$$

Đáp số: 98cm

Bài 4: $10 + 0 = 1$

BUTVANG.VN