

Họ và tên : .....

**BÀI TẬP THEO TUẦN**

Lớp: 2

**TUẦN 25**

1. Kết quả của dãy tính nào dưới đây bé hơn 12 ?

- A.  $50 : 5 \times 2$       B.  $5 \times 8 : 4$       C.  $27 : 3 + 3$       D.  $4 \times 6 - 8$

2. Đúng ghi Đ, sai ghi S:

$3 \times 7 = 21$         $18 : 3 = 9$         $40 : 4 : 2 = 8$    
 $24 : 4 = 5$         $7 \times 4 = 24$         $45 : 5 + 18 = 27$

3. Từ phép nhân  $3 \times 9 = 27$ , ta lập được 2 phép chia nào ?

- A.  $27 : 3 = 8$       B.  $27 : 3 = 9$       C.  $21 : 3 = 7$       D.  $27 : 9 = 3$

4. Tìm y:  $y \times 2 + 2 = 20$

- A.  $y = 4$       B.  $y = 5$       C.  $y = 8$       D.  $y = 9$

5. Khi kim phút chỉ đúng số 6, kim giờ chỉ giữa số 9 và số 10, lúc đó là :

- A. 6 giờ 9 phút      B. 6 giờ 30 phút      C. 9 giờ 30 phút      D. 10 giờ 30 phút

6. Hỏi phải xếp 20 học sinh ngồi trong bao nhiêu cái bàn để mỗi bàn đều có 2 học sinh ?

- A. 10 cái bàn      B. 10 học sinh      C. 18 cái bàn      D. 22 cái bàn

**PHẦN II: TỰ LUẬN:**

**Bài 1:** Viết phép tính thích hợp vào ô trống (theo mẫu):

Cho 2 số	10 và 5	9 và 3	6 và 2	8 và 4
Tổng	$10 + 5 = 15$			
Hiệu	$10 - 5 = 5$			
Tích	$10 \times 5 = 50$			
Thương	$10 : 5 = 2$			



**GỢI Ý/HƯỚNG DẪN GIẢI**

1. Kết quả của dãy tính nào dưới đây bé hơn 12 ?

- A.  $50 : 5 \times 2$       B.  $5 \times 8 : 4$       C.  $27 : 3 + 3$       D.  $4 \times 6 - 8$

2. Đúng ghi Đ, sai ghi S:

- $3 \times 7 = 21$  Đ       $18 : 3 = 9$  S       $40 : 4 : 2 = 8$  S  
 $24 : 4 = 5$  S       $7 \times 4 = 24$  S       $45 : 5 + 18 = 27$  Đ

3. Từ phép nhân  $3 \times 9 = 27$ , ta lập được 2 phép chia nào ?

- A.  $27 : 3 = 8$       B.  $27 : 3 = 9$       C.  $21 : 3 = 7$       D.  $27 : 9 = 3$

4. Tìm y:  $y \times 2 + 2 = 20$

- A.  $y = 4$       B.  $y = 5$       C.  $y = 8$       D.  $y = 9$

5. Khi kim phút chỉ đúng số 6, kim giờ chỉ giữa số 9 và số 10, lúc đó là :

- A. 6 giờ 9 phút      B. 6 giờ 30 phút      C. **9 giờ 30 phút**      D. 10 giờ 30 phút

6. Hỏi phải xếp 20 học sinh ngồi trong bao nhiêu cái bàn để mỗi bàn đều có 2 học sinh ?

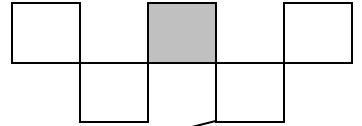
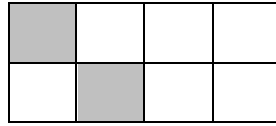
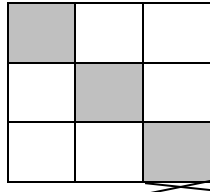
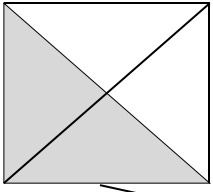
- A. **10 cái bàn**      B. 10 học sinh      C. 18 cái bàn      D. 22 cái bàn

**PHẦN II: TỰ LUẬN:**

**Bài 1:** Viết phép tính thích hợp vào ô trống (theo mẫu):

Cho 2 số	10 và 5	9 và 3	6 và 2	8 và 4
Tổng	$10 + 5 = 15$	$9 + 3 = 12$	$6 + 2 = 8$	$8 + 4 = 12$
Hiệu	$10 - 5 = 5$	$9 - 3 = 6$	$6 - 2 = 4$	$8 - 4 = 4$
Tích	$10 \times 5 = 50$	$9 \times 3 = 27$	$6 \times 2 = 12$	$8 \times 4 = 32$
Thương	$10 : 5 = 2$	$9 : 3 = 3$	$6 : 2 = 3$	$8 : 4 = 2$

**Bài 2:** Nói câu với hình vẽ thích hợp:



Đã tô màu  $\frac{1}{4}$

Đã tô màu  $\frac{1}{2}$

Đã tô màu  $\frac{1}{5}$

Đã tô màu  $\frac{1}{3}$

**Bài 3:**

Cần số cái thuyền để chở hết số hành khách đó là:

$$28 : 4 = 7 \text{ (cái thuyền)}$$

Đáp số: 7 cái thuyền

**Bài 4:**

a) Có thể lập được số nhóm học tập là:

$$24 : 3 = 8 \text{ (nhóm)}$$

Đáp số: 8 nhóm

b) Có số học sinh trong mỗi nhóm văn nghệ là:

$$24 : 4 = 6 \text{ (học sinh)}$$

Đáp số: 6 học sinh