



Họ và tên :

BÀI TẬP THEO TUẦN

Lớp: 2

TUẦN 7**PHẦN I. Trắc nghiệm:****Câu 1:** Tổng nào sau đây lớn nhất?

A. $26 + 45$

B. $18 + 37$

C. $6 + 29$

D. $38 + 22$

Câu 2: Phép tính nào có kết quả đúng?

A. $26 + 45 = 61$

B. $7 + 39 = 46$

C. $38 + 29 = 57$

D. $45 + 8 = 52$

Câu 3: Tổng hai số là 46. Nếu giữ nguyên số hạng thứ nhất, bớt ở số hạng thứ hai đi 13 đơn vị thì tổng mới là**Câu 4:** Số 36 bé hơn số B là 15 đơn vị. Hỏi số B là số nào?

A. 21

B. 22

C. 51

D. 41

Câu 5: Hai bao gạo có tất cả 57kg. Hỏi nếu người ta đổ 10kg từ bao thứ nhất sang bao thứ hai thì lúc này cả hai bao có bao nhiêu ki-lô-gam gạo?

A. 37kg

B. 47kg

C. 57kg

D. 67kg

Câu 6: Mai cân nặng 26kg. Lan cân nặng hơn Mai 15kg. Hỏi Lan cân nặng bao nhiêu ki-lô-gam?

A. 11kg

B. 31kg

C. 40kg

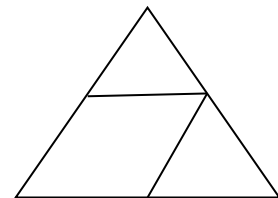
D. 41kg

Câu 7: Câu nào đúng?

A. Số hình tam giác bằng số hình tứ giác.

B. Số hình tam giác nhiều hơn số hình tứ giác.

C. Số hình tam giác ít hơn số hình tứ giác.

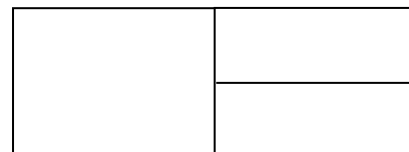
**Câu 8:** Hình bên có bao nhiêu hình chữ nhật?

A. 3 hình

B. 4 hình

C. 5 hình

D. 6 hình



PHẦN II. Tự luận

Bài 1: Đặt tính rồi tính:

$16 + 25$

$6 + 27$

$27 + 48$

$38 + 26$

$34 + 18$

Bài 2: Tính nhẩm:

$6 + 5 = \dots\dots\dots$

$9 + 4 = \dots\dots\dots$

$16 + 7 + 25 = \dots\dots\dots$

$8 + 7 = \dots\dots\dots$

$6 + 7 = \dots\dots\dots$

$6 + 15 + 31 = \dots\dots\dots$

Bài 3: Tính:

$17 + 45 - 21 = \dots\dots\dots$

$6 + 9 + 18 = \dots\dots\dots$

$6 + 6 + 29 = \dots\dots\dots$

Bài 4: Bạn Nam cân nặng 26kg. Bạn Tùng cân nặng hơn bạn Nam 8kg. Bạn Hiếu nhẹ hơn bạn Tùng 3kg. Hỏi:

a) Tùng cân nặng bao nhiêu ki-lô-gam?

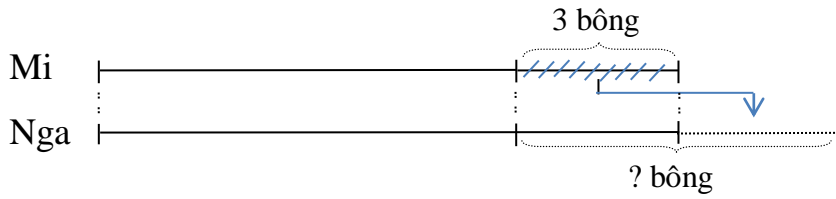
Bài giải

b) Hiếu cân nặng bao nhiêu ki-lô-gam?

Bài giải

Bài 5: Mi và Nga có số hoa bằng nhau. Mi cho Nga 3 bông hoa. Hỏi bây giờ Nga có nhiều hơn Mi bao nhiêu bông hoa?

Tóm tắt:



Bài giải

.....

.....

.....

=====

CHÚC CON HOÀN THÀNH TỐT BÀI LÀM CỦA MÌNH

GỢI Ý/HƯỚNG DẪN GIẢI

PHẦN I: Trắc nghiệm

Câu	1	2	3	4	5	6	7	8
Đáp số	A	B	36	C	C	D	B	C

PHẦN II. Tự luận

Bài 1: Đặt tính rồi tính:

$$16 + 25 = 41 \quad 6 + 27 = 33 \quad 27 + 48 = 75 \quad 38 + 26 = 64 \quad 34 + 18 = 52$$

Bài 2: Tính nhẩm:

$$6 + 5 = 11$$

$$9 + 4 = 13$$

$$16 + 7 + 25 = 48$$

$$8 + 7 = 15$$

$$6 + 7 = 13$$

$$6 + 15 + 31 = 52$$

Bài 3: Tính:

$$17 + 45 - 21 = 62 - 21 \\ = 41$$

$$6 + 9 + 18 = 15 + 18 \\ = 33$$

$$6 + 6 + 29 = 12 + 29 \\ = 41$$

Bài 4: Bạn Nam cân nặng 26kg. Bạn Tùng cân nặng hơn bạn Nam 8kg. Bạn Hiếu nhẹ hơn bạn Tùng 3kg. Hỏi:

a) Tùng cân nặng bao nhiêu ki-lô-gam?

Bài giải

Tùng cân nặng số ki-lô-gam là:

$$26 + 8 = 34 \text{ (kg)}$$

Đáp số: 34kg

b) Hiếu cân nặng bao nhiêu ki-lô-gam?


Hiếu cân nặng số ki-lô-gam là:

$$34 - 3 = 31 \text{ (kg)}$$

Đáp số: 31kg

Bài 5: Mi và Nga có số hoa bằng nhau. Mi cho Nga 3 bông hoa. Hỏi bây giờ Nga có nhiều hơn Mi bao nhiêu bông hoa?

Tóm tắt:



Bản quyền thuộc về Hệ thống Giáo dục Bút Vờ ? bông

Hotline: 0979.696.333

Bài giải

Nga có nhiều hơn Mi số bông hoa là:

$$3 + 3 = 6 \text{ (bông hoa)}$$

Đáp số: 6 bông hoa

BUTVANG.VN