



Họ và tên :

BÀI TẬP THEO TUẦN

Lớp: 5

TUẦN 18**PHẦN I: Khoanh tròn vào chữ đặt trước câu trả lời đúng:****Câu 1:** Tìm số tự nhiên x biết $56,91 < x < 57,12$.

- A. 56 B. 57 C. 58 D. 56,92

Câu 2: Cho: 5,36; 13,107; 0,28; 28,105; 13,4. Sắp xếp các số theo thứ tự từ bé đến lớn:

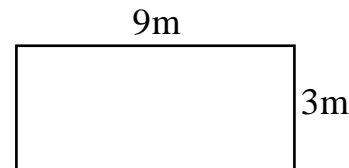
- A. 0,28; 5,36; 13,4; 13,107; 28,105 B. 0,28; 5,36; 13,4; 28,105; 13,107
C. 0,28; 5,36; 13,107; 13,4; 28,105 D. 28,105; 13,4; 13,107; 5,36; 0,28

Câu 3: Một hình tam giác có độ dài cạnh thứ nhất 9,45m; cạnh thứ hai dài 7,67m; cạnh thứ ba dài hơn cạnh thứ nhất 1,5m. Chu vi của hình tam giác đó là:

- A. 28,06m B. 27,06m C. 27,07m D. 28,07m

Câu 4: Một mảnh đất hình chữ nhật được vẽ trên bản đồ tỉ lệ 1: 200 (như hình bên). Diện tích thật của mảnh đất đó là:

- A. 10,8 ha B. 1,08 ha
C. 108 ha D. 1080 ha

**Câu 5:** Tam giác ABC có đáy $BC = 45\text{cm}$, đường cao $AH = 28\text{cm}$. Diện tích tam giác ABC là:

- A. 1260cm^2 B. 630cm^2 C. 1260 D. 63cm^2

Câu 6: Tam giác MNP có đáy $MN = 24\text{cm}$ và đường cao $PK = 15\text{cm}$. Diện tích tam giác MNP là:

- A. 216cm^2 B. 360cm^2 C. 135cm^2 D. 180cm^2

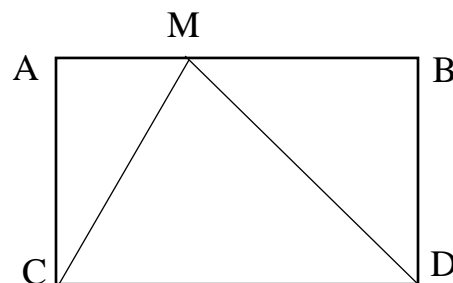
Câu 7: Một tam giác có diện tích $12,6\text{dm}^2$ và chiều cao tương ứng là 45cm thì cạnh đáy của tam giác đó là:

- A. 2,8dm B. 28cm^2 C. 5,6dm D. 56cm^2

Câu 8: Hình bên có $AB = 2,6\text{dm}$; $AC = 1,6\text{dm}$.

Diện tích tam giác MDC là

- A. $2,08\text{dm}^2$ C. 208dm^2
B. $4,16\text{dm}^2$ D. 416cm^2



PHẦN II: Tự luận

Bài 1. Viết số đo thích hợp vào ô trống:

Độ dài đáy hình tam giác	13cm	32dm	4,7m	$\frac{2}{3}$ m
Chiều cao hình tam giác	7cm	40dm	3,2m	$\frac{3}{4}$ m
Diện tích hình tam giác				

Bài 2: Một tam giác có diện tích 72 cm^2 , đáy tam giác dài 1,6dm. Tính chiều cao của tam giác đó.

Bài giải

.....

.....

.....

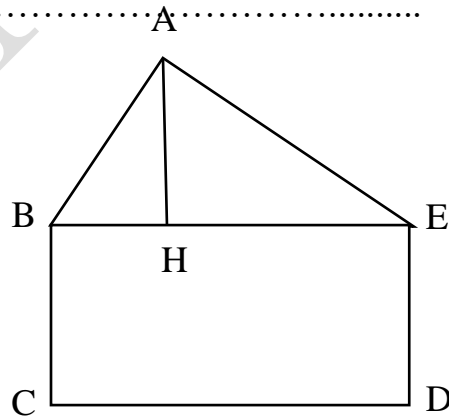
.....

.....

Bài 3: Tính chu vi và diện tích hình bên, biết:

$AB = 12\text{cm}; BC = 12\text{cm}; CD = 15\text{cm}; AE = 14\text{cm}$

Và $AH = 10\text{cm}$.



Bài giải

.....

.....

.....

.....

.....

.....

.....

.....

CHÚC CON HOÀN THÀNH TỐT BÀI LÀM CỦA MÌNH

GỢI Ý/HƯỚNG DẪN GIẢI**PHẦN I: TRẮC NGHIỆM**

Câu	1	2	3	4	5	6	7	8
Đáp án	B	C	D	C	B	D	C	A

PHẦN II. TỰ LUẬN**Bài 1.** Viết số đo thích hợp vào ô trống:

Độ dài đáy hình tam giác	13cm	32dm	4,7m	$\frac{2}{3}$ m
Chiều cao hình tam giác	7cm	40dm	3,2m	$\frac{3}{4}$ m
Diện tích hình tam giác	45,5cm ²	640dm ²	7,52m ²	$\frac{1}{4}$ m ²

Bài 2:*Bài giải*

$$\text{Đổi } 1,6\text{dm} = 16\text{cm}$$

Chiều cao của tam giác đó là:

$$72 \times 2 : 16 = 9 \text{ (cm)}$$

Đáp số: 9cm.

Bài 3:*Bài giải*

Chu vi hình tam giác ABE là:

$$12 + 15 + 14 = 41 \text{ (cm)}$$

Chu vi hình chữ nhật BCDE là:

$$(12 + 15) \times 2 = 54 \text{ (cm)}$$

Chu vi hình bên là:

$$41 + 54 = 95 \text{ (cm)}$$

Diện tích hình chữ nhật BCDE là:

$$12 \times 15 = 180 \text{ (cm}^2\text{)}$$

Diện tích hình tam giác ABE là:

$$10 \times 15 : 2 = 75 \text{ (cm}^2\text{)}$$

Diện tích hình bên là:

$$180 + 75 = 255 \text{ (cm}^2\text{)}$$

Đáp số: Chu vi: 95cm

Diện tích: 255cm²

