

Họ và tên :

BÀI TẬP THEO TUẦN

Lớp: 2

TUẦN 23

PHẦN I: TRẮC NGHIỆM:

1. Đúng ghi Đ, sai ghi S:

$3 \times 8 = 27$

$4 \times 6 : 3 = 8$

$5 \times 8 - 12 = 28$

$18 : 3 = 6$

$30 : 3 : 2 = 8$

$21 : 3 \times 4 = 32$

2. Thương của 10 và 2 là:

A. 4

B. 5

C. 8

D. 12

3. Tìm x : $4 < 3 \times x < 12$.

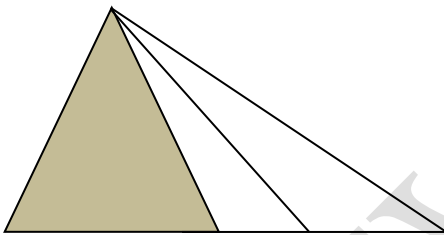
A. $x = 6$

B. $x = 3$

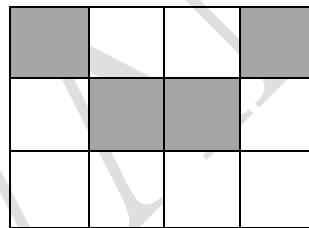
C. $x = 4$

D. $x = 5$


4. Hình nào đã tô màu $\frac{1}{3}$?



A



B



C

5. Có 9l dầu rót vào các can, mỗi can có 3l dầu. Hỏi rót được mấy can dầu?

A. 27 can dầu

B. 3l dầu

C. 6 can dầu

D. 3 can dầu

PHẦN II: TỰ LUẬN

Bài 1: Tính:

$$4 \times 9 = \dots\dots\dots \quad 16 : 2 = \dots\dots\dots \quad 30 : 3 + 90 = \dots\dots\dots$$

$$3 \times 8 = \dots\dots\dots \quad 27 : 3 = \dots\dots\dots \quad \dots\dots\dots$$

$$21 : 3 = \dots\dots\dots \quad 15 : 3 = \dots\dots\dots \quad 14 : 2 \times 5 = \dots\dots\dots$$

$$5 \times 7 = \dots\dots\dots \quad 4 \times 6 = \dots\dots\dots \quad \dots\dots\dots$$

Bài 2: Tìm y:

a, $y \times 3 = 6$

.....

.....

.....

b, $6 : 3 \times y = 10$

.....

.....

.....

c, $y \times 4 = 2 \times 8$

.....

.....

.....

Bài 3: Tìm một số biết rằng tích của số đó với 3 thì bằng số lớn nhất có một chữ số.


.....

.....

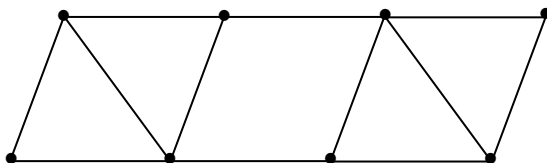
.....

Bài 4: Cô giáo có 12 cái bút, cô thưởng đều cho các bạn, mỗi bạn 3 cái bút. Hỏi:

- a) Có bao nhiêu bạn được thưởng bút?
- b) Nếu số bút đó cô thưởng cho 2 bạn thì mỗi bạn được mấy cái bút?



Bài 5: Điền số thích hợp vào chỗ chấm:



a) Hình trên có que diêm.

b) Nếu lấy bớt đi $\frac{1}{3}$ số que diêm ở hình trên tức là đã lấy bớt đi que diêm.

BUTVANG.VN

CHÚC CON HOÀN THÀNH TỐT BÀI LÀM CỦA MÌNH

GỢI Ý/HƯỚNG DẪN GIẢI**PHẦN I: TRẮC NGHIỆM:**

1. Đúng ghi Đ, sai ghi S:

$3 \times 8 = 27$ S

$4 \times 6 : 3 = 8$ Đ

$5 \times 8 - 12 = 28$ Đ

$18 : 3 = 6$ Đ

$30 : 3 : 2 = 8$ S

$21 : 3 \times 4 = 32$ S

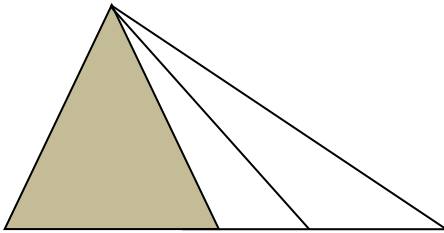
2. Thương của 10 và 2 là:

A. 4


B. 5

C. 8


D. 12

3. Tìm x : $4 < 3 \times x < 12$.A. $x = 6$ B. $x = 3$ C. $x = 4$ D. $x = 5$ 4. Hình nào đã tô màu $\frac{1}{3}$?

A



B



C

5. Có 9l dầu rót vào các can, mỗi can có 3l dầu. Hỏi rót được mấy can dầu?

A. 27 can dầu

B. 3l dầu

C. 6 can dầu

D. 3 can dầu

PHẦN II: TỰ LUẬN**Bài 1:** Tính:

$4 \times 9 = 36$

$16 : 2 = 8$

$30 : 3 + 90 = 10 + 90$

$3 \times 8 = 24$

$27 : 3 = 9$

$= 100$

$21 : 3 = 7$

$15 : 3 = 5$

$14 : 2 \times 5 = 7 \times 5$

$5 \times 7 = 35$

$4 \times 6 = 24$

$= 35$

Bài 2: Tìm y:

a, $y \times 3 = 6$

b, $6 : 3 \times y = 10$

c, $y \times 4 = 2 \times 8$

$y = 6 : 3$

$2 \times y = 10$

$y \times 4 = 16$

$y = 2$

$y = 10 : 2$

$y = 16 : 4$

$y = 5$

$y = 4$

Bài 3: Tìm một số biết rằng tích của số đó với 3 thì bằng số lớn nhất có một chữ số.

Số lớn nhất có một chữ số là: 9

Số đó là: $9 : 3 = 3$

Đáp số: 3

Bài 4: Cô giáo có 12 cái bút, cô thưởng đều cho các bạn, mỗi bạn 3 cái bút. Hỏi:

a) Có bao nhiêu bạn được thưởng bút?

b) Nếu số bút đó cô thưởng cho 2 bạn thì mỗi bạn được mấy cái bút?

a) Có số bạn được thưởng bút là: $12 : 3 = 4$ (bạn)

Đáp số: 4 bạn

b) Nếu số bút đó cô thưởng cho 2 bạn thì mỗi bạn được số cái bút là:

 $12 : 2 = 6$ (bút)

Đáp số: 6 cái bút

Bài 5:a) Hình trên có **12** que diêm.b) Nếu lấy bớt đi $\frac{1}{3}$ số que diêm ở hình trên tức là đã lấy bớt đi **4** que diêm.