



Họ và tên : .....

**BÀI TẬP THEO TUẦN**

Lớp: 1

**TUẦN 29**

**Bài 1. Đặt tính rồi tính:**

$76 - 30$

$54 - 40$

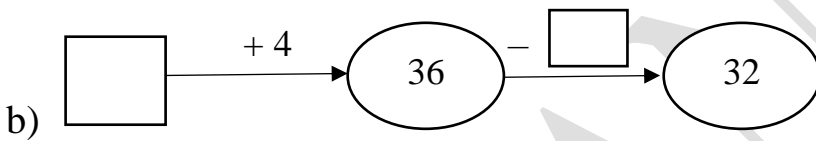
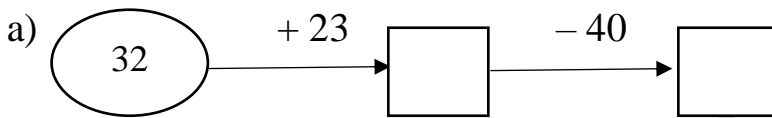
$91 - 70$

$89 - 7$

$28 - 6$

.....  
 .....  
 .....

**Bài 2. Viết số thích hợp vào ô trống:**



**Bài 3. Đúng ghi Đ, sai ghi S:**

a)  $\begin{array}{r} \_ 36 \\ - \quad 3 \\ \hline 32 \square \end{array}$

b)  $\begin{array}{r} \_ 36 \\ - \quad 3 \\ \hline 33 \square \end{array}$

c)  $\begin{array}{r} \_ 66 \\ - \quad 3 \\ \hline 08 \square \end{array}$

d)  $\begin{array}{r} \_ 36 \\ - \quad 3 \\ \hline 31 \square \end{array}$

**Bài 4. Điền dấu (> ; < ; =) thích hợp vào chỗ chấm:**

$48 - 6 \dots 40$

$37 - 7 \dots 7 + 30$

.....

.....

.....

$76 - 34 \dots 39$

$45 - 23 \dots 43 - 22$

.....

.....

.....

$87 - 55 \dots 32$

$55 - 32 \dots 37 - 4$

.....

.....

.....

**Bài 5.** Nối phép tính với kết quả của phép tính đó:

$33 + 2$

$41 + 6$

$64 + 4$

$75 + 4$

35

68

47

79

$68 - 21$

$58 - 23$

$88 - 20$

$99 - 20$

**Bài 6.** Viết phép tính thích hợp:

a) Có: 56 cái nhãn vở

Thêm: 13 cái nhãn vở

Có tất cả: ... cái nhãn vở.

--	--	--	--	--

b) Có: 78 quả cam

Đã bán: 14 quả cam

Có tất cả: ... quả cam.

--	--	--	--	--

---

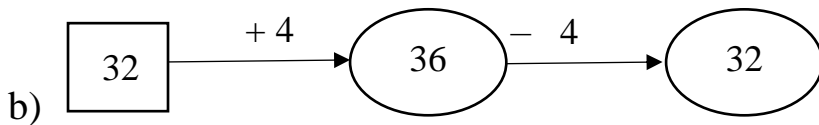
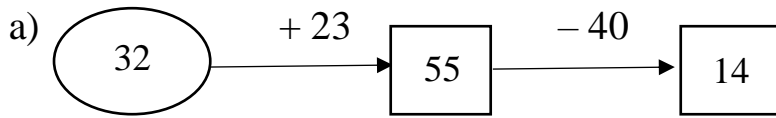
CHÚC CON HOÀN THÀNH TỐT BÀI LÀM CỦA MÌNH

## GỢI Ý/HƯỚNG DẪN GIẢI

**Bài 1.** Đặt tính rồi tính:

$$76 - 30 = 46 \quad 54 - 40 = 14 \quad 91 - 70 = 21 \quad 89 - 7 = 82 \quad 28 - 6 = 22$$

**Bài 2.** Viết số thích hợp vào ô trống:



a) 
$$\begin{array}{r} \_ 36 \\ \_ 3 \\ \hline 32 \end{array}$$

S

b) 
$$\begin{array}{r} \_ 36 \\ \_ 3 \\ \hline 33 \end{array}$$

Đ

c) 
$$\begin{array}{r} \_ 66 \\ \_ 3 \\ \hline 08 \end{array}$$

S

d) 
$$\begin{array}{r} \_ 36 \\ \_ 3 \\ \hline 31 \end{array}$$

S

**Bài 3.**

Đúng

ghi

Đ, sai

ghi S:

**Bài 4.** Điền dấu (> ; < ; =) thích hợp vào chỗ chấm:

$$48 - 6 > 40$$

42

$$76 - 34 > 39$$

42

$$87 - 55 = 32$$

32

$$37 - 7 < 7 + 30$$

30

37

$$45 - 23 > 43 - 22$$

22

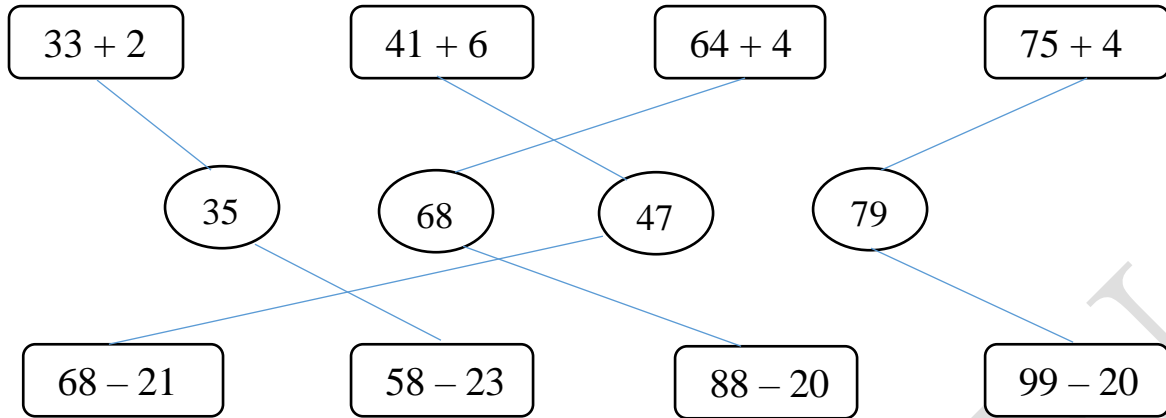
21

$$55 - 32 < 37 - 4$$

23

33

**Bài 5.** Nối phép tính với kết quả của phép tính đó:



**Bài 6.** Viết phép tính thích hợp:

a) Có: 56 cái nhãn vở

Thêm: 13 cái nhãn vở

Có tất cả: ... cái nhãn vở.

56	+	13	=	69
----	---	----	---	----

b) Có: 78 quả cam

Đã bán: 14 quả cam

Có tất cả: ... quả cam.

78	-	14	=	64
----	---	----	---	----